

Mittkursövningsprov – Ma2b

Del 1 – Utan miniräknare

1. Lös ekvationerna, svara exakt

a) $x^2 - 36 = 0$

b) $x^2 - 4x = 0$

c) $x^2 = 8x$

d) $x^2 + 4x + 3 = 0$

e) $2x^2 - 4x - 16 = 0$

f) $10^x = 40$

g) $3^x = 100$

h) $\lg x = 3$

(10/0/0)

2. Lös ekvationssystemet

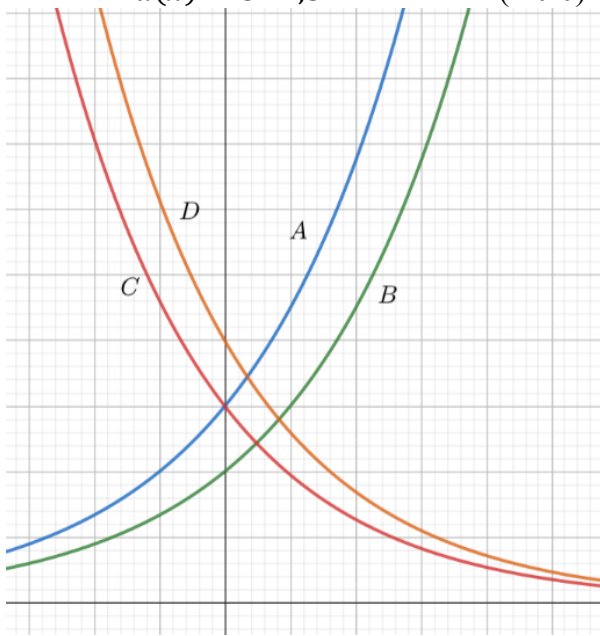
a)
$$\begin{cases} 3x - 2y = 5 \\ 2y + x = 7 \end{cases}$$

(2/0/0)

3. Para ihop följande funktionsekvationer med funktionerna på bilderna nedan

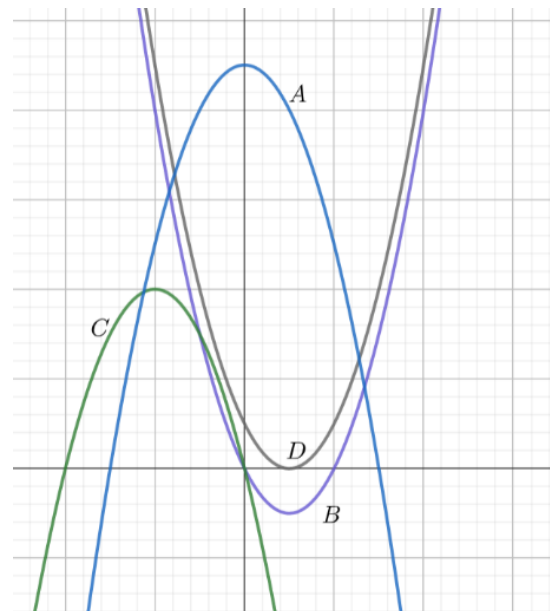
- a) 1. $f(x) = 2 \cdot 1,5^x$
 2. $g(x) = 3 \cdot 0,65^x$
 3. $h(x) = 4 \cdot 0,65^x$
 4. $a(x) = 3 \cdot 1,5^x$

(2/0/0)



- b) 1. $f(x) = -x^2 + 9$
 2. $g(x) = x^2 - 2x$
 3. $h(x) = x^2 - 2x + 1$
 4. $a(x) = -x^2 - 2x$

(2/0/0)



4. Bestäm det exakta värdet för följande uttryck

a) $\lg 1000$

b) $3\lg 10 + 2\lg 100$

c) $10^{\lg 17}$

d) $\frac{3^8 \cdot 3^3 \cdot 3^0}{3^9}$

(4/0/0)

5. Utgå från andragradsfunktionen på formen $f(x) = ax^2 + bx + c$ nedan och bestäm följande

a) Funktionen nollställen

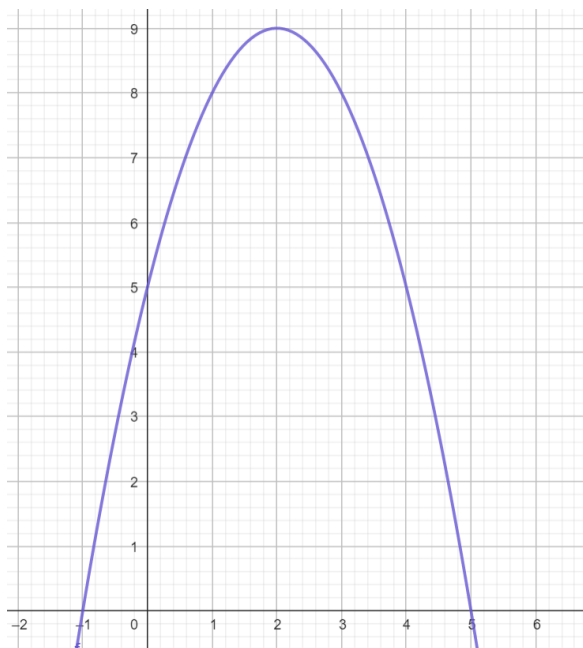
b) Funktionen symmetrilinje

c) Bestäm $f(4)$

d) Lös ekvationen $f(x) = 0$

e) Bestäm med en motivering om konstanten a är större eller mindre än konstanten c

f) Bestäm b om $f(b + 1) = 5$



(4/1/1)

6. Utveckla följande uttryck med kvadreringsregeln eller konjugatregeln

a) $(x + 5)^2 - 25$

b) $(x - 3)(x + 3) + 9$

c) $\left(\frac{x}{2} - \sqrt{2}\right)\left(\frac{x}{2} + \sqrt{2}\right)$

(2/1/0)

7. Lös ekvationerna, svara exakt

a) $5 \cdot 3^x = 20$

b) $3x^2 - 10x - 10 = x^2 - 2x + 14$

c) $4^{2x} \cdot 4^x = 17$ (2/4/0)

8. Joakim tänker på två tal. Summan av talen är 20 och det större talet är 3 gånger större än det mindre talet. Vilka tal tänker Joakim på? *Prövning ger inga poäng.*

(0/2/0)

9. För följande andragradsekvationer saknar en reella lösningar, en har enbart en lösning och en har två lösningar. Bestäm vilken som har vilken egenskap.

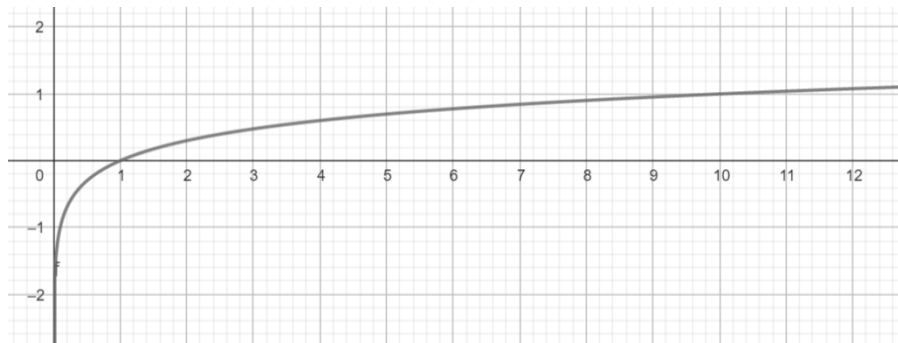
A $x^2 + 4x + 4 = 0$

B $x^2 - 2x + 10 = 0$

C $x^2 - 6x - 7 = 0$

(3/1/0)

10. Nedan ser du funktionen $f(x) = \lg x$. Du kan notera funktionen går igenom punkterna (1, 0) och (10, 1) vilken är den nästa punkten som funktionen går igenom där både x - och y -koordinaten är positiva heltal?



(0/1/0)

11. a) Ekvationssystemet nedan saknar lösningar. Visa algebraiskt att det saknar lösningar och förklara i ord varför det saknar lösningar

$$\begin{cases} 2x = y - 10 \\ 3 = y - 2x \end{cases}$$

b) För vilket värde på konstanten a saknar följande ekvationssystem lösningar?

$$\begin{cases} ax + y = 12 \\ 2y - 10x - 1 = 0 \end{cases}$$

(0/4/0)

12. Förenkla följande uttryck med hjälp av bland annat faktorisering

a) $\frac{x^2+4x+4}{x^2-4}$

b) $\frac{x^2-y^2}{x+y} - (x-y)$

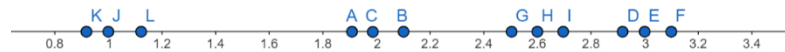
c) $(\sqrt{x+1} - 4)^2 - x + 4$ (1/2/1)

13. Para ihop lösningen till följande ekvationer med punkterna på tallinjen

1. $10^x = 99$

2. $9^x = 99$

3. $11^x = 99$



(0/2/0)

14. Inom vilket intervall A-D bör talet $\lg 2025$ ligga inom?

A $1 < \lg 2025 < 2$

B $2 < \lg 2025 < 3$

C $3 < \lg 2025 < 4$

D $4 < \lg 2025 < 5$

(0/1/0)

15. För en andragsradsfunktion vet du att nollställena är $x_1 = 4 + \sqrt{2}$ samt $x_2 = 2 - \sqrt{2}$. Bestäm ekvationen för funktionens symmetrilinje

(0/1/1)

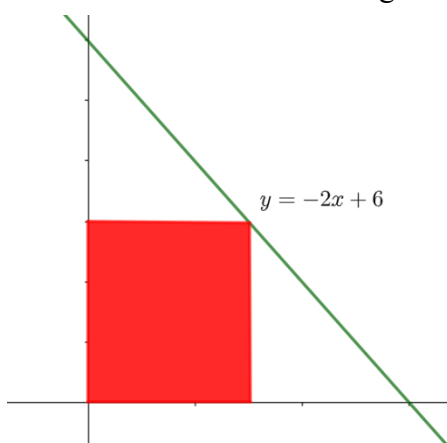
16. Bestäm $A^2 - B^2$ om $A = 1234^x + 1234^{-x}$ och $B = 1234^x - 1234^{-x}$

(0/0/2)

17. Funktionen $f(x) = ax^2 + a^2x + 2$ har enbart ett nollställe och a är en konstant. Bestäm $f(1)$ för funktionen.

(0/0/2)

18. Under grafen till den räta linjen $y = -2x + 6$ placeras en rektangel. Rektangeln har ett hörn i origo och ett annat hörn som tangerar grafen till den räta linjen. Vilket är den maximala arean som rektangeln kan anta?



(0/0/2)

Del 2 – Med miniräknare

19. Lös ekvationerna och svara med två decimaler

a) $10^x = 32$

b) $2^x = 11$

c) $x^5 = 100$

20. Observera tabellerna nedan. Använd ditt regressionsanalysverktyg och anpassa en linjär funktion till a) och en exponentiell funktion till b)

a)

x	2	4	7	9	12	13
y	10	15	19	23	28	31

b)

x	1	3	4
y	10	14	21

(4/0/0)

21. Befolkningsförändringen från 2023 i staden Joakimköping beskrivs med följande funktion $f(x) = 30\,000 \cdot 0,93^x$ där x är antal år från 2023. Bestäm följande

a) Hur många människor bor det i Joakimköping 2023?

b) Efter hur många år är befolkningen i Joakimköping 15 000?

(2/1/0)

22. Joakim har gjort ett löfte med sin son inför sonens matteprov. Joakim sa att för varje rätt du får kommer du få 5 kr för varje fel får du böta 8 kr (lätt omoraliskt). Provet innehöll 26 uppgifter och när Joakims son fick tillbaka provet fick han inga pengar och slapp betala något. Hur många rätt fick sonen?

(0/2/0)

23. Turismen i världen har ökat stort sedan 1950. 1950 räknade man med att 25 miljoner människor turistade internationellt årligen. År 2005 hade siffran ökat till 800 miljoner människor som turistade internationellt årligen.

a) Hur många miljoner människor förväntas turista internationellt år 2025 om vi antar att utvecklingen är exponentiell?

b) Vilket år förväntas turismen vara över 5 miljarder?

(0/4/0)



24. Gateway Arch är ett berömt monument i Saint Louis, USA.

Konstruktionen är 192 meter hög och 192 meter bred vid basen.

Man kan modellera Gateway archs höjd med hjälp av en andragsgradsfunktion.

Den funktionen går att skriva som $h(x) = -0,0208x^2 + bx$ där x är meter längst med basen.

Bestäm konstanten b

(0/2/0)



25. Aralsjön i Centralasien har på grund av uttorkning sedan 1960-talet minskat i area. Från att ha varit en av världens största sjöar är den idag nästan borta. Statistiken nedan visar på hur sjöns area i tusen kvadratkilometer har minskat sedan år 1960. Om vi antar att förändringen är exponentiell vilket år beräknas sjöns area vara 3 tusen km^2 ?

År	1960	1985	2004	2020
Tusen km^2	68	28,6	15,1	6,8



(1/2/0)

26. Antalet ålar har minskat kraftigt under många år. Om man jämför med 1950 finns idag bara 3% av beståndet kvar. Man räknar med att ålens bestånd minskar exponentiellt.

- Konstruera en funktion som beskriver minskningen av antalet ålar.
- Bestäm också vilket år det enbart finns 1% kvar av beståndet från 1950.

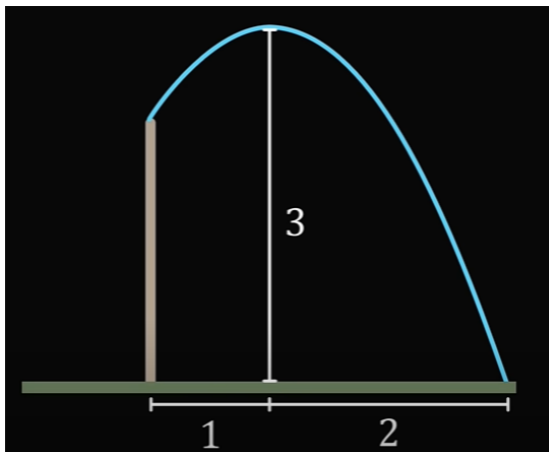
(0/0/2)

27. Joakim jobbar på en marknad och vill maximera sin vinst när han säljer blåbär. Just nu tar han 80kr/liter och han säljer i snitt 300 liter om dagen. Han har räknat ut att om han ökar literpriset med 5 kr kommer han sälja 10 liter mindre i snitt om dagen. Vilket pris ska Joakim sätta för att maximera sin vinst?



(0/1/2)

28. En fontän har en okänd höjd. Den sprutar ut en vattenstråle som når 3 meter över marken som max och landar sedan 3 meter från fontänen. Se bild nedan. Bestäm fontänens höjd. Anta att vattenstrålen rör sig som en andragradsfunktion.



(0/1/2)

3. a) 1-B, 2-C, 3-D, 4-a

b) 1-A, 2-B, 3-D, 4-C

4. a) $\lg 1000$ vad ska vi höja upp 10 i för att få 1000

$\lg 1000 = 3$

b) $3 \lg 10 + 2 \lg 100 = 3 \cdot 1 + 2 \cdot 2 = 7$

c) $10^{\lg 17} = 17$

d) $\frac{3^8 \cdot 3^3 \cdot 3^0}{3^9} = \frac{3^{11}}{3^9} = 3^2 = 9$

5. a) $x_1 = -1$
 $x_2 = 5$ b) Symmetrilinje: $x = z$ c) $f(4) = 5$

d) $f(x) = 0$ e) $a < c$ eftersom $a < 0$ så vi har
 $x_1 = -1$ $x_2 = 5$ en maximipunkt.

f) $f(b+1) = 5$ vilken x har vi då $y = 5$

det har vi vid $x_1 = 0$ och $x_2 = 4$

$b_1 + 1 = 0$ $b_2 + 1 = 4$ Svar: $b_1 = -1$

$b_1 = -1$ $b_2 = 3$ $b_2 = 3$

6. a) $(x+5)^2 = x^2 + 10x + 25$ b) $(x-3)(x+3) = x^2 - 9$

c) $\left(\frac{x}{2} - \sqrt{2}\right)\left(\frac{x}{2} + \sqrt{2}\right) = \left(\frac{x}{2}\right)^2 - (\sqrt{2})^2 = \frac{x^2}{4} - 2$

$$7. a) 5 \cdot 3^x = 20$$

$$3^x = 4$$

$$\lg 3^x = \lg 4$$

$$x \cdot \lg 3 = \lg 4$$

$$x = \frac{\lg 4}{\lg 3}$$

Stanna där!

$$c) 4^{2x} \cdot 4^x = 17$$

$$4^{3x} = 17$$

$$\lg 4^{3x} = \lg 17$$

$$3x \lg 4 = \lg 17$$

$$x = \frac{\lg 17}{3 \lg 4}$$

$$b) 3x^2 - 10x - 10 = x^2 - 2x + 14$$

$$2x^2 - 8x - 24 = 0$$

$$x^2 - 4x - 12 = 0$$

$$x = 2 \pm \sqrt{\left(\frac{4}{2}\right)^2 + 12}$$

$$= 2 \pm \sqrt{4 + 12}$$

$$= 2 \pm \sqrt{16}$$

$$= 2 \pm 4$$

$$x_1 = 2 + 4 = 6$$

$$x_2 = 2 - 4 = -2$$

8. x = Ennars tal y = Andras tal

$$\begin{cases} x + y = 20 & \text{I} \\ x + y = 20 & \text{II} \end{cases}$$

$$\begin{cases} 3x = y & \text{III} \\ x + 3x = 20 \end{cases}$$

$$4x = 20$$

$$x = 5$$

$$x + y = 20$$

$$5 + y = 20$$

$$y = 15$$

Svar: talen är 5 och

15

$$9. A: x^2 + 4x + 4 = 0$$

$$x = -2 \pm \sqrt{\left(\frac{4}{2}\right)^2 - 4}$$

$$= -2 \pm \sqrt{4 - 4}$$

$$= -2 \pm 0 \quad x_1 = -2$$

Endast ett lösning!

9. B $x^2 - 2x + 10 = 0$

$$x = 1 \pm \sqrt{\left(\frac{2}{2}\right)^2 - 10}$$

$$= 1 \pm \sqrt{1 - 10}$$

$$= 1 \pm \sqrt{-9}$$

Solutioer reella under rottecknet
lösningar!

C $x^2 - 6x - 7 = 0$

$$x = \frac{6}{2} \pm \sqrt{\left(\frac{6}{2}\right)^2 + 7}$$

$$= 3 \pm \sqrt{16}$$

$$= 3 \pm 4$$

$x_1 = 7, x_2 = -1$

10. Det kommer vara

da $x = 100$ och därmed

$y = 2$ alltså $100 = 2$

$(100, 2)$

kvadreringsregeln

12. a) $\frac{x^2 + 4x + 4}{x^2 - 4} = \frac{(x+2)^2}{(x+2)(x-2)}$

konjugatregeln

$= \frac{x+2}{x-2}$

$3 = 2x + 10 - 2x$
 $3 \neq 10$ Solutioer
lösningar

I ordi De rätta linjerna har
samma k -värde och kommer
sålunda aldrig skära varandra

b) $\frac{x^2 - y^2}{x+y} - (x-y) = \frac{(x+y)(x-y)}{x+y} - (x-y)$

$= x-y - (x-y) = 0$

c) $(\sqrt{x+1} - 4)^2 - x + 4 = (\sqrt{x+1})^2 - 2 \cdot 4 \cdot \sqrt{x+1} + 16 - x + 4$

$= x+1 - 8\sqrt{x+1} + 16 - x + 4 = -8\sqrt{x+1} + 21$

11 a) $\begin{cases} 2x = y - 10 \text{ (I)} \\ 3 = y - 2x \text{ (II)} \end{cases}$

(I) $2x = y - 10$

$y = 2x + 10$ (II) $3 = y - 2x$

b) $\begin{cases} ax + y = 12 \text{ (I)} \\ 2y - 10x - 1 = 0 \text{ (II)} \end{cases}$ Vi vill ha
samma k -värde,
skriva på k -form

(I) $y = -ax + 12$ (II) $2y = 10x + 1$

$y = 5x + \frac{1}{2}$

$-a = 5$
 $a = -5$


$$13. \quad 1-C \quad 2-B \quad 3-A \quad 14. \quad 19100 = 2$$

$$191000 = 3$$

$$1910000 = 4$$

$$3 < 192025 < 4$$

15.



En andragradsfunktion är alltid symmetrisk runt symmetrilinjen. Vi får då $x=3$ som symmetrilinje

$$16. \quad A^2 - B^2 \quad A = 1234^x + 1234^{-x}, \quad B = 1234^x - 1234^{-x}$$

$$A^2 - B^2 = (A-B)(A+B) =$$

$$= (1234^x + 1234^{-x} - (1234^x - 1234^{-x})) (1234^x + \cancel{1234^x} + 1234^{-x} - \cancel{1234^{-x}})$$

$$= (\cancel{1234^x} + 1234^{-x} - \cancel{1234^x} + 1234^{-x}) (2 \cdot 1234^x)$$

$$= (2 \cdot 1234^{-x}) (2 \cdot 1234^x) = 4 \cdot 1234^x \cdot 1234^{-x} = 4 \cdot 1234^{x-x} = 4$$

$$\text{Svari } A^2 - B^2 = 4$$

$$17 \quad f(x) = ax^2 + a^2x + 1$$

$$f(x) = 0$$

undersök för vilket a
funktionen enbart har ett
nollställe

$$ax^2 + a^2x + 1 = 0$$

$$x^2 + ax + \frac{1}{a} = 0$$

$$x = \frac{-a \pm \sqrt{a^2 - \frac{4}{a}}}{2}$$

= 0
för enbart
ett nollställe

$$\frac{a^2}{4} - \frac{1}{a} = 0$$

$$\frac{a^3}{4} = \frac{1}{a}$$

$$a^3 = 4$$

$$a = 2$$

$$f(x) = 2x^2 + 4x + 1$$

$$f(1) = 2 \cdot 1 + 4 \cdot 1 + 1 = 8$$

18. Vi vill ha en areafunktion för den röda
rektangeln. Basen kommer vara x och höjden kommer
vara längden $y = -2x + 6$ vi får då $A(x) = x(-2x + 6) =$

Vi vill nu ha extremvärdet för $-2x^2 + 6x$

$A(x)$. Sök symmetrilinjen.

för att ta fram extremvärde

$$A(x) = 0$$

$$\text{Vi tar då } A\left(\frac{3}{2}\right) = -2\left(\frac{3}{2}\right)^2 + 6 \cdot \frac{3}{2} =$$

$$-2x^2 + 6x = 0$$

$$= -2 \cdot \frac{9}{4} + 9 = -\frac{9}{2} + 9 = \frac{9}{2}$$

$$x^2 - 3x = 0$$

Svar: $\frac{9}{2}$ areaenheter

$$x(x - 3) = 0$$

$$x_1 = 0 \quad x_2 = 3$$

Symmetrilinjen är

$$\text{dä } x = \frac{3}{2}$$

Del 2 - med miniräkare

19. a) $10^x = 32$

$$x = \lg 32 \approx 1,51$$

b) $2^x = 11$

$$\lg 2^x = \lg 11$$

$$x \cdot \lg 2 = \lg 11$$

$$x = \frac{\lg 11}{\lg 2} \approx 3,46$$

c) $x^5 = 100$

$$x = 100^{\frac{1}{5}} \approx 2,51$$

20. a) $y = 1,61x + 6,79$

b) $y = 7,63 \cdot 1,26^x$

21. a) $f(0) = 30000 \cdot 0,95^0 = 30000$ svar: 30 tusen

b) $f(x) = 15000$

$$15000 = 30000 \cdot 0,95^x$$

$$0,5 = 0,95^x$$

$$\lg 0,5 = \lg 0,95^x$$

$$\lg 0,5 = x \cdot \lg 0,95$$

$$x = \frac{\lg 0,5}{\lg 0,95} \approx 9,55 \text{ svar: Efter ungefär 9,5 år}$$

22. $x = \text{Antal rätt}$, $y = \text{Antal fel}$ Vi vet att $x + y = 26$

Vi vet också $5x - 8y = 0$ Vi får ekvationssystemet

$$\begin{cases} x + y = 26 & \text{I} \\ 5x - 8y = 0 & \text{II} \end{cases}$$

$$\begin{cases} x + y = 26 & \text{I} \\ x = 26 - y & \text{II} \end{cases}$$

$$\begin{cases} 5x - 8y = 0 & \text{II} \\ 5(26 - y) - 8y = 0 & \text{III} \\ 130 - 5y - 8y = 0 & \text{IV} \end{cases}$$

$$13y = 130 \quad y = 10 \quad x = 26 - 10 = 16$$

svar: 16 rätt och 10 fel!

23. a) Vi sätter 1950 som år 0. Då får vi att

$$f(x) = C \cdot a^x \quad \text{och att} \quad f(0) = 25 \quad f(0) = C \cdot a^0 = 25$$

$$C = 25$$

Vi vet också att $f(55) = 800$

Vi får då $25 \cdot a^{55} = 800$ eller lös med log-funktionen på
2009/08/08

$$a^{55} = 32$$

$$(a^{55})^{\frac{1}{55}} = 32^{\frac{1}{55}}$$

$$a = 1,065$$

$$a = 1,065$$

$$f(x) = 25 \cdot 1,065^x \quad f(75) = 25 \cdot 1,065^{75} = 2821 \quad \text{Svar: } 2821 \text{ miljoner}$$

$$b) f(x) = 5000 \quad 25 \cdot 1,065^x = 5000$$

$$1,065^x = 200$$

$$\lg 1,065^x = \lg 200$$

$$x = \frac{\lg 200}{\lg 1,065} \approx 84$$

Svar: år 2034 är det
över 5 miljarder turister

24. Vi vet att funktionen har följande samband

$f(192) = 0$ eller $f(96) = 192$. Sätt in någon av sambanden
i funktionen för att få fram b

$$f(192) = -0,0208 \cdot 192^2 + b \cdot 192 = 0$$

$$192b = 0,0208 \cdot 192^2$$

$$b = \frac{0,0208 \cdot 192^2}{192} \approx 4$$

Svar: $b = 4$

25 Använd regressionsanalys

sett år 1960 som $x=0$ för att

för enkla

Vi får då funktionen $y = 71,156 \cdot 0,9631^x$

Vi söker $y=3$ $3 = 71,156 \cdot 0,9631^x$

$$\frac{3}{71,156} = 0,9631^x$$

$$\lg\left(\frac{3}{71,156}\right) = \lg 0,9631^x$$

$$\frac{\lg\left(\frac{3}{71,156}\right)}{\lg 0,9631} = x \quad x = 84$$

Svar: År 2044

26 a) Exponentiell förändring $f(x) = c \cdot a^x$

Vi vet inte c men modellen gör att konstruera

ändå $f(75) = 0,03c$ vilket ger $0,03c = c \cdot a^{75}$

är från
1950

$$0,03 = a^{75}$$

$$(0,03)^{\frac{1}{75}} = (a^{\frac{75}{75}})^{\frac{1}{75}}$$

$$a \approx 0,9543$$

$$f(x) = c \cdot 0,9543^x$$

b) $f(x) = 0,01c$

$$x = \frac{\lg 0,01}{\lg 0,9543}$$

$$0,01c = c \cdot 0,9543^x$$

$$0,01 = 0,9543^x$$

$$\lg 0,01 = \lg 0,9543^x$$

$$\lg 0,01 = x \cdot \lg 0,9543$$

$$x \approx 98,44$$

$$1950 + 98 = 2048$$

Svar: 2048

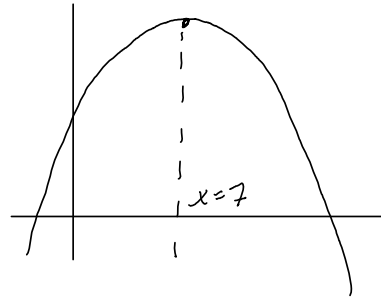
27. Konstruera en funktion som beskriver situationen där x är antalet öringar av priset. Vinst = Pris \cdot (Antal liter sålda)

$$V(x) = (80 + 5x)(300 - 10x)$$

Pris efter x öringar

Antal liter sålda

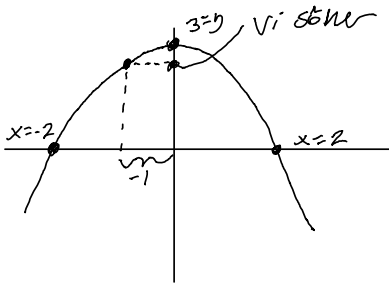
Undersök funktionen grafiskt



Vi ska höja priset med 5.7 vilket ger $80 + 5 \cdot 7 =$

$= 105$ Svar: Vid priset 105 kr maximerar vi vinsten!

28. Lösning 1. Använda regressionsanalys. Sätt in formlen i ett koordinatsystem och sätt ut 3 punkter



vi har 3 punkter $(0, 3)$, $(-2, 0)$ och $(2, 0)$ vi söker $f(-1)$.

Bestäm funktionen med hjälp av regressionsanalys-verktöget

vi får då $f(x) = -0,75x^2 + 3$

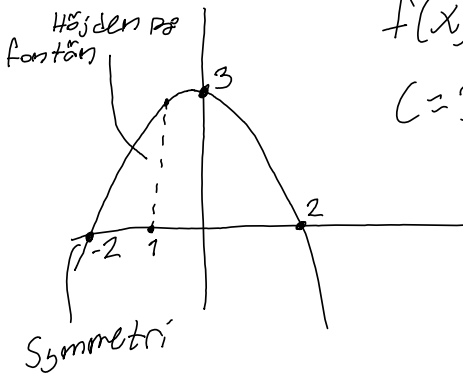
vi undersöker $f(-1) = 2,25$

Svar: Fortöjningen är 2,25 meter.

Lösning 2



18, 2. Gått in fontänen i ett koordinatsystem



$$f(x) = ax^2 + bx + c$$

$$c = 3 \quad f(x) = ax^2 + bx + 3$$

$$f(2) = 0 \quad 2^2a + 2b + 3 = 0$$

$$4a + 2b + 3 = 0$$

$$f(-2) = 0 \quad (-2)^2a - 2b + 3 = 0$$

$$4a - 2b + 3 = 0$$

$$\begin{cases} 4a + 2b + 3 = 0 & \text{I} \\ 4a - 2b + 3 = 0 & \text{II} \end{cases}$$

$$\text{II} \quad 4a - 2b + 3 = 0$$

$$4a = 2b - 3$$

$$\text{I} \quad 4a + 2b + 3 = 0$$

$$2b - 3 + 2b + 3 = 0$$

$$4b = 0$$

$$b = 0$$

$$\text{I} \quad 4a + 2b + 3 = 0$$

$$4a + 3 = 0$$

$$a = -\frac{3}{4}$$

$$f(x) = -\frac{3}{4}x^2 + 3 \quad \text{Gått in } x = 1$$

$$f(1) = -\frac{3}{4} + 3 = -\frac{3}{4} + \frac{12}{4} = \frac{9}{4}$$

Svar: Fontänen är $\frac{9}{4}$ meter hög