

<b>Delprov B</b>	Uppgift 1–10. Endast svar krävs.
<b>Delprov C</b>	Uppgift 11–19. Fullständiga lösningar krävs.
<b>Provtid</b>	150 minuter för delprov B och delprov C tillsammans.
<b>Hjälpmedel</b>	Formelblad och linjal.

Provet består av tre skriftliga delprov (delprov B, C och D).  
Tillsammans kan de ge 60 poäng varav 22 E-, 22 C- och 16 A-poäng.

Gräns för provbetyget

E: 15 poäng

D: 24 poäng varav 7 poäng på minst C-nivå

C: 31 poäng varav 13 poäng på minst C-nivå

B: 40 poäng varav 5 poäng på A-nivå

A: 47 poäng varav 9 poäng på A-nivå

Efter varje uppgift anges hur många poäng du kan få för en fullständig lösning eller ett svar. Där framgår även vilka kunskapsnivåer (E, C och A) du har möjlighet att visa. Till exempel betyder (3/2/1) att en korrekt lösning ger 3 E-, 2 C- och 1 A-poäng.

Till uppgifter där det står ”*Endast svar krävs*” behöver du endast ge ett kort svar. Till övriga uppgifter krävs att du redovisar dina beräkningar, förklarar och motiverar dina tankegångar och ritar figurer vid behov.

**Skriv ditt namn, födelsedatum och gymnasieprogram på alla papper du lämnar in.**

Namn: \_\_\_\_\_

Födelsedatum: \_\_\_\_\_

Gymnasieprogram/Komvux: \_\_\_\_\_

**Delprov B:** Digitala verktyg är inte tillåtna. Endast svar krävs. Skriv dina svar direkt i elevhäftet.

1. Derivera

a)  $f(x) = \sin 5x$   $f'(x) =$  \_\_\_\_\_ (1/0/0)

b)  $g(x) = (5x + 2)^{10}$   $g'(x) =$  \_\_\_\_\_ (1/0/0)

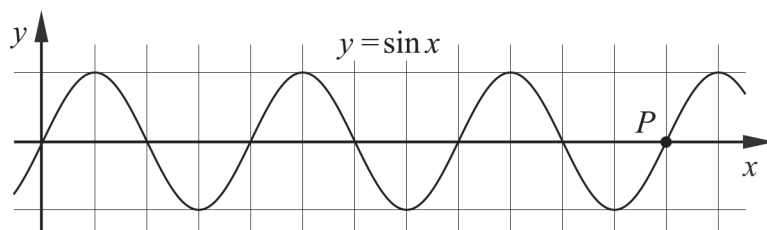
c)  $h(x) = x^7 \cdot e^x$   $h'(x) =$  \_\_\_\_\_ (1/0/0)

2. Funktionen  $f$  ges av  $f(x) = 2 + 5 \cos 4x$ .

a) Ange funktionens period. \_\_\_\_\_ (1/0/0)

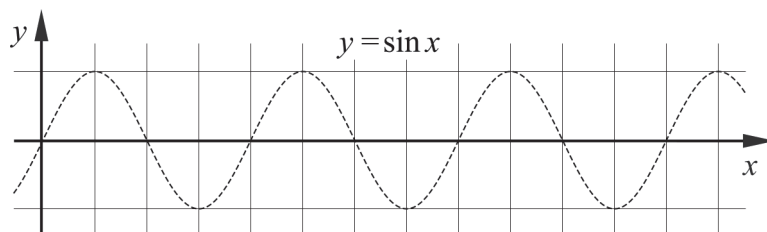
b) Ange funktionens minsta värde. \_\_\_\_\_ (1/0/0)

3. Figuren visar kurvan  $y = \sin x$  och en punkt  $P$ .  
Punkten  $P$  ligger på kurvan och har  $y$ -koordinaten 0



a) Ange  $x$ -koordinaten för punkten  $P$ .  
Svara i radianer. \_\_\_\_\_ (1/0/0)

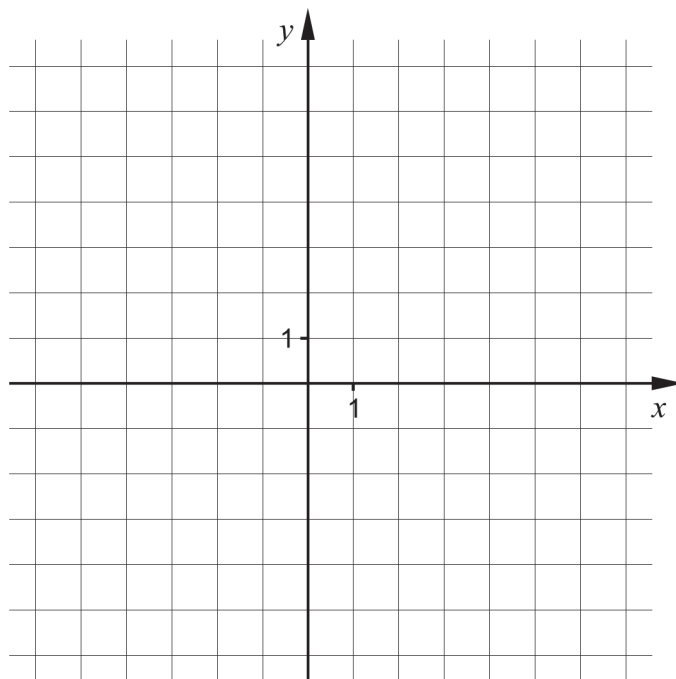
b) Skissa kurvan  $y = \sin \frac{x}{2}$  i koordinatsystemet. Till din hjälp är kurvan  $y = \sin x$  inritad.



(1/0/0)

4. En kurva ges av  $y = \frac{3}{x+2} + x - 1$

Rita in asymptoterna till kurvan i koordinatsystemet.

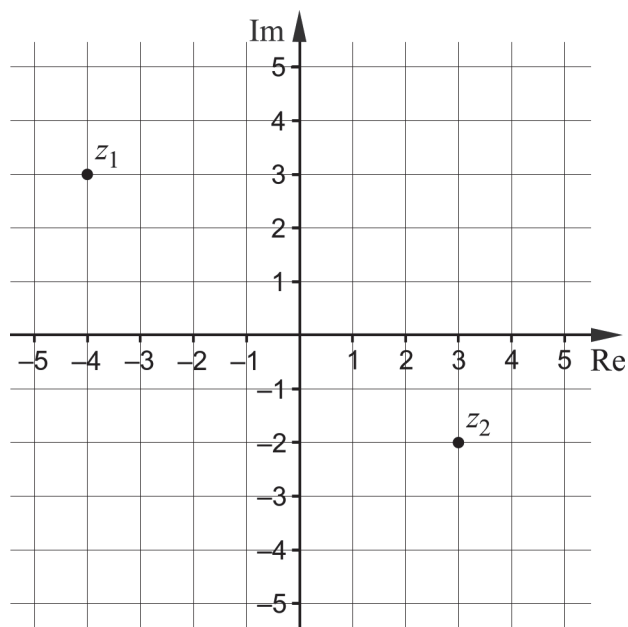


(1/1/0)

5. Bestäm  $\int_0^{\frac{\pi}{2}} (\sin^2 x + \cos^2 x + \sin x) dx$ . \_\_\_\_\_ (0/1/0)

6. Bestäm  $|z|$  då  $z = e^{2+i\pi}$  \_\_\_\_\_ (0/1/0)

7. Figuren visar det komplexa talplanet där talen  $z_1$  och  $z_2$  är markerade.



- a) Bestäm  $\bar{z}_1$  \_\_\_\_\_ (1/0/0)
- b) Bestäm  $\arg(z_2 - 1)$  \_\_\_\_\_ (0/1/0)
- c) Markera alla komplexa tal  $z$  som uppfyller  $\operatorname{Re} z = \operatorname{Im}(z + z_2)$  \_\_\_\_\_ (0/0/1)

8. Bestäm  $\int_0^{\pi} (g'(x) \cdot h(x) + g(x) \cdot h'(x)) dx$   
 då  $g(x) = \cos x$  och  $h(x) = x^2$  \_\_\_\_\_ (0/0/1)

9. Ange en icke-reell rot till ekvationen  $z^{10} - 1 = 0$  \_\_\_\_\_ (0/0/1)

10. Ett område i första kvadranten begränsas av kurvan  $y = x^{\frac{1}{4}}$ , linjen  $y = 2$  och  $y$ -axeln. När detta område roterar kring  $y$ -axeln bildas en rotations kropp vars volym ges av  $\pi \int_0^2 g(y) dy$ .

Ange funktionen  $g$ .  $g(y) =$  \_\_\_\_\_ (0/0/1)

**Delprov C:** Digitala verktyg är inte tillåtna. Skriv dina lösningar på separat papper.

11. Skriv  $\frac{8+6i}{1+2i}$  på formen  $a+bi$ . (2/0/0)
12. Lös ekvationen  $\sin 4x = \frac{\sqrt{3}}{2}$ . (2/1/0)
13. Visa att  $\frac{z-\bar{z}}{2i} = \text{Im } z$  för alla komplexa tal  $z$ . (2/0/0)
14. Funktionerna  $f$  och  $g$  ges av  $f(z) = z^4 + 2z^3 + 9z^2 - 2z - 10$  och  $g(z) = z^2 - 1$
- a) Visa att  $f(z)$  är delbart med  $g(z)$ . (0/1/0)
- b) Lös ekvationen  $f(z) = 0$ . (0/2/0)
15. Visa att  $\frac{\sin x}{\cos x - \sin x} + \frac{\sin x}{\cos x + \sin x} = \tan 2x$ . (0/2/0)
16. För vinkeln  $v$  gäller villkoren:
- $\sin^2 v = \frac{8}{9}$
  - $90^\circ < v < 180^\circ$
- Bestäm  $\tan v$ . (0/3/0)
17. Funktionen  $f$  ges av  $f(x) = \frac{ax+b}{x+1}$   
Bestäm konstanterna  $a$  och  $b$  så att  $f(1) = 4$  och  $f'(1) = 3$  (0/3/0)

18. Visa att ekvationen  $\sin v \cos 40^\circ = \sin v + \cos v \sin 40^\circ$  saknar lösningar i intervallet  $0^\circ \leq v \leq 90^\circ$  (0/0/2)

19. Funktionen  $f$  har en primitiv funktion  $F(x) = 3x \ln x$  och funktionen  $g$  har en primitiv funktion  $G(x) = x(\ln x)^2 + 3x$ .

Bestäm rötterna till ekvationen  $f(x) = g(x)$ . (0/0/2)

<b>Delprov D</b>	Uppgift 20–27. Fullständiga lösningar krävs.
<b>Provtid</b>	120 minuter.
<b>Hjälpmedel</b>	Digitala verktyg, formelblad och linjal.

Provet består av tre skriftliga delprov (delprov B, C och D).  
Tillsammans kan de ge 60 poäng varav 22 E-, 22 C- och 16 A-poäng.

Gräns för provbetyget

E: 15 poäng

D: 24 poäng varav 7 poäng på minst C-nivå

C: 31 poäng varav 13 poäng på minst C-nivå

B: 40 poäng varav 5 poäng på A-nivå

A: 47 poäng varav 9 poäng på A-nivå

Efter varje uppgift anges hur många poäng du kan få för en fullständig lösning eller ett svar. Där framgår även vilka kunskapsnivåer (E, C och A) du har möjlighet att visa. Till exempel betyder (3/2/1) att en korrekt lösning ger 3 E-, 2 C- och 1 A-poäng.

Till uppgifter där det står ”*Endast svar krävs*” behöver du endast ge ett kort svar. Till övriga uppgifter krävs att du redovisar dina beräkningar, förklarar och motiverar dina tankegångar, ritar figurer vid behov och att du visar hur du använder ditt digitala verktyg.

**Skriv ditt namn, födelsedatum och gymnasieprogram på alla papper du lämnar in.**

Namn: \_\_\_\_\_

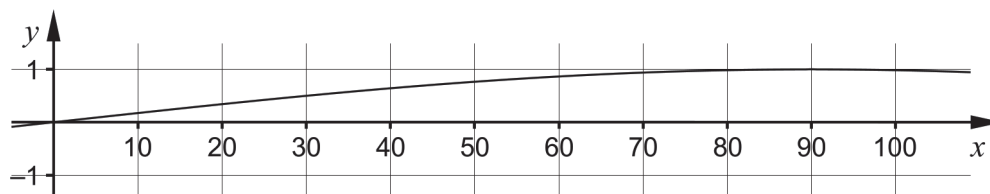
Födelsedatum: \_\_\_\_\_

Gymnasieprogram/Komvux: \_\_\_\_\_

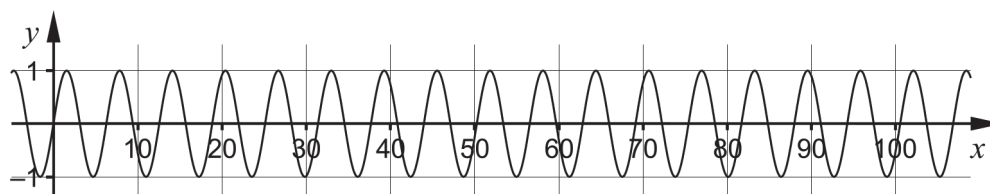
**Delprov D:** Digitala verktyg är tillåtna. Till flera av uppgifterna krävs att du använder digitala verktyg för att kunna lösa dem. Till övriga uppgifter kan det vara en fördel att använda de digitala verktygen vid lösning av uppgiften. Skriv dina lösningar på separat papper.

20. Yosef och Zara ritar kurvan  $y = \sin x$  på sina digitala verktyg. När de jämför sina kurvor upptäcker de att kurvorna ser olika ut. Se figur.

Yosefs kurva



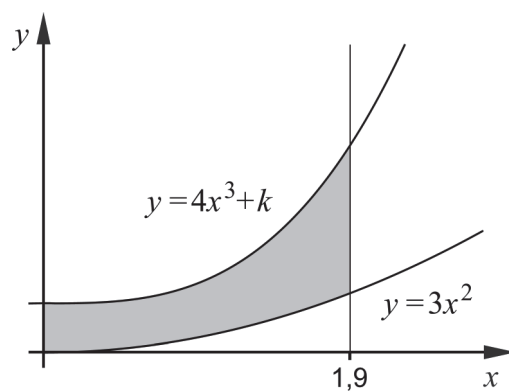
Zaras kurva



Förklara varför kurvornas utseende skiljer sig åt på detta sätt.

(1/0/0)

21. Figuren visar ett gråmarkerat område som begränsas av  $y$ -axeln, linjen  $x = 1,9$  samt kurvorna  $y = 3x^2$  och  $y = 4x^3 + k$  där  $k$  är en positiv konstant.



För ett visst värde på  $k$  är arean av det gråmarkerade området 13 areaenheter.

Bestäm detta värde på  $k$ . Svara med minst en decimal.

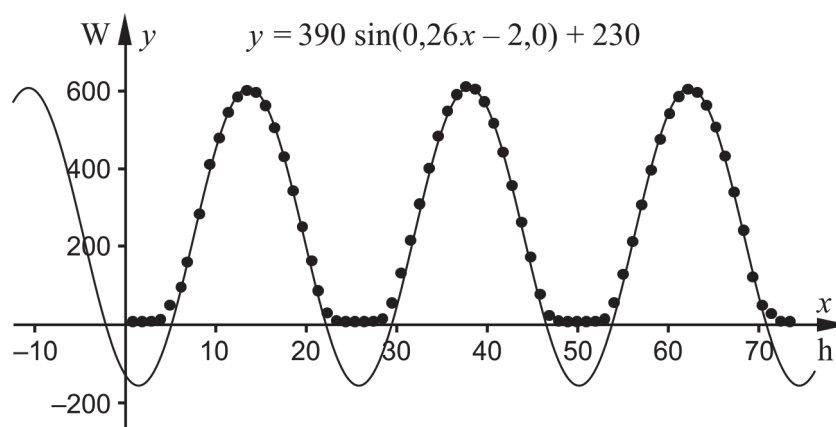
(2/0/0)



22. I en solpanel omvandlas energi från solstrålningen till elektricitet.

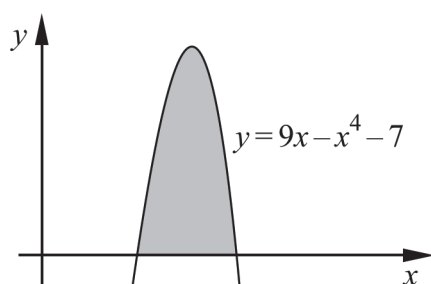
Solveig har satt upp en liten solpanel och mäter hur mycket effekt som den ger under några molnfria dagar. Hon upptäcker att mätvärdena varierar periodiskt och anpassar en sinuskurva till mätvärdena. Ekvationen för sinuskurvan blir  $y = 390 \sin(0,26x - 2,0) + 230$  där  $x$  är tiden i timmar från klockan 00.00 den 23 juli 2020 och  $y$  är effekten i watt (W).

Figuren visar hennes mätvärden och den anpassade sinuskurvan.



- a) Bestäm hur stor effekten var klockan 19.00 den 23 juli 2020.  
Svara med minst två värdesiffror. *Endast svar krävs* (1/0/0)
- b) Bestäm förändringshastigheten för effekten klockan 15.30 den 23 juli 2020 mätt i W/h. Svara med minst två värdesiffror. (2/0/0)

23. Figuren visar ett gråmarkerat område som begränsas av kurvan  $y = 9x - x^4 - 7$  och  $x$ -axeln. Det gråmarkerade området roteras runt  $x$ -axeln och bildar en rotationskropp.



- Bestäm volymen av rotationskroppen. Svara med minst två decimaler. (0/2/0)

24. Eleverna i klass TE19C har varit på föreläsning och är därför sena till efterföljande matematiklektion som började klockan 12.00.

Tiden som en elev är sen till matematiklektionen har en

sannolikhetsfördelning med täthetsfunktionen  $f(t) = 0,02t \cdot e^{-0,01t^2}$

där  $t$  är antalet minuter som en elev är sen till matematiklektionen.

Bestäm hur många av klassens 32 elever som hunnit till matematiklektionen klockan 12.05.

(0/2/0)

25. Under ett blåsigt dygn kan vindhastigheten vid ett vindkraftverk beskrivas med modellen

$$v(x) = 11 \sin(0,11x - 0,89) + 28, \quad 0 \leq x \leq 24$$

där  $v$  är vindhastigheten i km/h och  $x$  är tiden i timmar från klockan 00.00.



- a) Bestäm den högsta vindhastigheten under dygnet. *Endast svar krävs* (1/0/0)

Vid vindhastigheter över 36 km/h vinklas rotorbladen för att minska slitage.

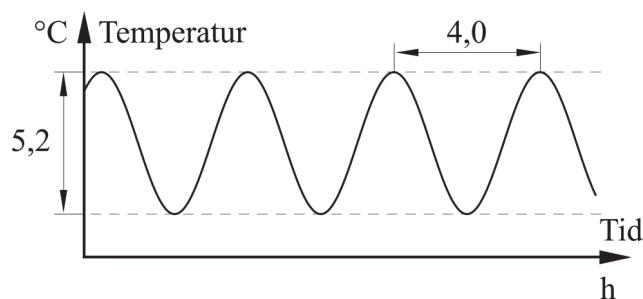
- b) Bestäm hur lång tid som vindhastigheten är över 36 km/h under det aktuella dygnet. (0/1/0)

Vid vindhastigheter mellan 0 och 36 km/h kan mängden elenergi som produceras beräknas med hjälp av sambandet  $P(v) = 0,42 \cdot v^3$  där  $P(v)$  är mängden producerad elenergi per timme i MJ/h och där  $v$  är vindhastigheten i km/h.

Vid vindhastigheter över 36 km/h är produktionen av elenergi per timme lika stor som för vindhastigheten 36 km/h.

- c) Bestäm den totala mängden elenergi som vindkraftverket producerar under dygnet. (0/0/3)

26. Temperaturen i ett kylrum varierar periodiskt med perioden 4,0 h, vilket beror på ett krånglande kylaggregat. Temperaturdifferensen mellan den högsta och den lägsta temperaturen är 5,2 °C. Se figur.



Klockan 08.30 är temperaturen maximal och en timme senare har den sjunkit till 3,9 °C.

Temperaturen i kylrummet kan beskrivas med modellen

$$T(t) = A \cdot \cos(Bt + C) + D$$

där  $T(t)$  är temperaturen i °C och  $t$  är tiden i timmar från klockan 00.00.

Bestäm konstanterna  $A$ ,  $B$ ,  $C$  och  $D$ .

*Endast svar krävs*

(0/1/2)

27. Låt  $C = \int_a^b (7x - x^2 - 10) dx$  där  $a < b$ .

a) Bestäm värdet av  $(b - a)$  då  $C$  antar sitt största värde.

*Endast svar krävs*

(0/0/1)

b) Bestäm vilket värde  $(b - a)$  maximalt kan anta då  $C = 0$

Svara med minst en decimal.

(0/0/2)

# Innehållsförteckning

<b>Inledning</b> .....	<b>4</b>
Läsanvisning.....	4
<b>1. Allmän information om bedömningen och betygssättningen av provet i matematik 4</b> .....	<b>5</b>
Uppgifter av kortsvarstyp .....	5
Uppgifter av långsvarstyp .....	5
Bedömning av skriftlig kommunikativ förmåga .....	6
Digitala prov ska avidentifieras .....	7
Sammanställning av elevresultat .....	7
Sammanställning till ett provbetyg .....	7
<b>2. Bedömningsanvisningar</b> .....	<b>8</b>
Läsanvisning.....	8
Instruktioner för bedömning av delprov B.....	8
Instruktioner för bedömning av delprov C.....	10
Instruktioner för bedömning av delprov D .....	12
<b>3. Exempel på bedömda elevlösningar</b> .....	<b>14</b>
Uppgift 3 .....	14
Uppgift 4 .....	15
Uppgift 7c.....	17
Uppgift 13 .....	17
Uppgift 14 .....	19
Uppgift 16 .....	21
Uppgift 17 .....	23
Uppgift 18 .....	24
Uppgift 20 .....	28
Uppgift 21 .....	29
Uppgift 25 .....	30
Uppgift 27b .....	33
<b>4. Instruktioner för sammanställning till ett provbetyg</b> .....	<b>36</b>
Sammanställningen till ett provbetyg i samband med provet i matematik 4 .....	36
Resultatet på provet ska särskilt beaktas vid betygssättningen.....	36
<b>5. Instruktioner för inrapportering av provresultat</b> .....	<b>37</b>
<b>6. Kopieringsunderlag och webbmaterial</b> .....	<b>39</b>
Webbmaterial.....	39
Formulär för sammanställning av elevresultat .....	40

## Inledning

På uppdrag av regeringen ansvarar Skolverket för samtliga nationella prov. Syftet med de nationella proven är att stödja en likvärdig och rättvis betygssättning.

I årskurs 3 i grundskolan och motsvarande skolformer är syftet att stödja bedömningen av uppnådda kunskapskrav.

De nationella proven kan också bidra till att stärka skolornas kvalitetsarbete genom analyser av provresultaten i relation till uppnådda kunskapskrav på skolnivå, huvudmannanivå och på nationell nivå.

Det är rektorn som ansvarar för organisationen omkring provet på skolan och för att leda och fördela arbetet.

## Läsanvisning

Det här häftet ska användas vid bedömningen och betygssättningen av det nationella provet i matematik 4. Häftet består av 6 kapitel. Inledningsvis finns information om bedömningen och betygssättningen av provet (kapitel 1). Sedan följer anvisningar för att bedöma elevernas prestationer på de olika delproven (kapitel 2). Därefter finns ett kapitel med exempel på bedömda elevlösningar (kapitel 3) och ett kapitel med instruktioner för sammanställningen till ett provbetyg (kapitel 4). De två avslutande kapitlen innehåller instruktioner för inrapportering av provresultat (kapitel 5) samt kopieringsunderlag och hänvisningar till webbmaterial (kapitel 6).

# 1. Allmän information om bedömningen och betygssättningen av provet i matematik 4

Bedömning ska ske utgående från läroplanens mål, ämnesplanens förmågor samt kunskapskraven och med hänsyn tagen till den tolkning av dessa dokument som gjorts lokalt. Utgångspunkten är att eleverna ska få poäng för lösningarnas förtjänster och inte poängavdrag för fel och brister.

För att tydliggöra anknytningen till kunskapskraven används olika kvalitativa förmågepoäng. I elevernas provhäften anges den poäng som varje uppgift kan ge, till exempel innebär (1/2/3) att uppgiften ger maximalt 1 E-poäng, 2 C-poäng och 3 A-poäng. I bedömningsanvisningarna anges dessutom för varje poäng vilken förmåga som provas. De olika förmågorna är inte oberoende av varandra och det är den förmåga som bedöms som den *huvudsakliga* som markeras. Förmågorna betecknas med B (Begrepp), P (Procedur), PL (Problemlösning), M (Modellering), R (Resonemang) och K (Kommunikation). Det betyder till exempel att  $E_{PL}$  och  $A_R$  ska tolkas som en ”problemlösningspoäng på E-nivå” respektive en ”resonemangspoäng på A-nivå”.

## Uppgifter av kortsvarstyp

För uppgifter av kortsvarstyp, där endast svar krävs, är det elevens slutliga svar som ska bedömas.

## Uppgifter av långsvarstyp

För uppgifter av långsvarstyp, där eleverna ska lämna fullständiga lösningar, krävs för full poäng en redovisning som leder fram till ett godtagbart svar eller slutsats. Redovisningen ska vara tillräckligt utförlig och uppställd på ett sådant sätt att tankegången kan följas. Ett svar med t.ex. enbart resultatet av en beräkning utan motivering ger inga poäng.

Frågan om hur vissa typfel ska påverka bedömningen lämnas till lokala beslut. Det kan till exempel gälla lapsus, avrundningsfel, följdfel och enklare räknefel. Om uppgiftens komplexitet inte minskas avsevärt genom tidigare fel så kan det lokalt beslutas att tilldela poäng på en uppgiftslösning trots förekomst av t.ex. lapsus och följdfel.

## Bedömningsmodeller

Bedömningsanvisningarna till långvarsuppgifterna är skrivna enligt tre olika modeller. (Eventuella avvikelser från dessa kommenteras i direkt anslutning till uppgiftens bedömningsanvisning.)

### Modell 1

Godtagbar ansats, t.ex. ...	+1 $E_p$
med i övrigt godtagbar lösning med korrekt svar (...)	+1 $E_p$

*Förklaring av modellen: Uppgiften ger maximalt (2/0/0). Den andra poängen är beroende av den första poängen, d.v.s. den andra poängen kan falla ut först om den första poängen utfallit. Detta indikeras med användning av liten bokstav och oftast av att ordet ”med” inleder den rad som beskriver vad som krävs för att den andra poängen ska erhållas.*

**Modell 2**

Godtagbar ansats, t.ex. ...	+1 E <sub>p</sub>
med korrekt bestämning av ...	+1 E <sub>p</sub>
Godtagbar verifiering av ...	+1 E <sub>p</sub>

*Förklaring av modellen: Uppgiften ger maximalt (3/0/0). I detta exempel är den tredje poängen oberoende av den andra poängen. Det indikeras med att den tredje raden inleds med stor bokstav. Det innebär att den tredje poängen kan falla ut även om den andra poängen inte gör det.*

**Modell 3**

E	C	A
Beskrivning av resonemang vars kvalitet motsvarar E-nivå, t.ex. ...	Beskrivning av resonemang vars kvalitet motsvarar C-nivå, t.ex. ...	Beskrivning av resonemang vars kvalitet motsvarar A-nivå, t.ex. ...
1 E <sub>R</sub>	1 E <sub>R</sub> och 1 C <sub>R</sub>	1 E <sub>R</sub> , 1 C <sub>R</sub> och 1 A <sub>R</sub>

*Förklaring av modellen: Uppgiften ger maximalt (1/1/1). Denna typ av bedömningsanvisning används när en och samma uppgift kan besvaras på flera kvalitativt olika nivåer. Beroende på hur eleven svarar utdelas (0/0/0) eller (1/0/0) eller (1/1/0) eller (1/1/1).*

**Bedömning av skriftlig kommunikativ förmåga**

I vissa uppgifter ska elevens skriftliga kommunikativa förmåga bedömas. Då gäller följande:

Kommunikationspoäng på C-nivå (C<sub>K</sub>) ges under förutsättning att eleven behandlat uppgiften i sin helhet och att lösningen i huvudsak är korrekt\*.

Dessutom ska

1. lösningen vara någorlunda fullständig och relevant, dvs. den kan sakna något steg eller innehålla något ovidkommande. Lösningen ska ha en godtagbar struktur.
2. matematiska symboler och andra representationer uttryckas på ett till stor del tydligt och korrekt sätt.
3. lösningen vara relativt lätt att följa och förstå.

Kommunikationspoäng på A-nivå (A<sub>K</sub>) ges under förutsättning att eleven behandlat uppgiften i sin helhet och att lösningen i huvudsak är korrekt\*.

Dessutom ska

1. lösningen vara i huvudsak fullständig, välstrukturerad och endast innehålla relevanta delar.
2. matematiska symboler och andra representationer uttryckas på ett tydligt och korrekt sätt.
3. lösningen vara lätt att följa och förstå.

\*Avsteg från denna princip kan i undantagsfall göras om det bedöms att den del av lösningen som är felaktig eller saknas inte tillför något väsentligt när det gäller möjligheten att bedöma den skriftliga kommunikationsförmågan.

För uppgifter där det kan delas ut kommunikationspoäng på C- eller A-nivå kan bland annat symboler, termer och hänvisningar förekomma i lösningen. Följande tabell kan då vara till stöd vid bedömningen av skriftlig kommunikativ förmåga:

Symboler	t.ex. $=, \neq, <, >, \leq, \geq, \approx, \pm, \sqrt{\quad}, f(x), f'(x), f''(x), x, y, ( \quad ), [ \quad ], \int, dx$ , gradtecken, index, lim, VL, HL, $\sin v, \sin^2 v$
Termer	t.ex. enhetscirkel, period, amplitud, fasförskjutning, radian, ekvation, funktion, funktionsvärde, värdemängd, definitionsmängd, koefficient, nollställe, skärningspunkt, graf, asymptot, derivata, andraderivata, förändringshastighet, växande, avtagande, extrempunkt, maximi-/minimi-/terrasspunkt, största/minsta värde, växande, avtagande, integral, integrationsgräns, primitiv funktion, begynnelsevillkor, sannolikhetsfördelning, täthetsfunktion, normalfördelning, standardavvikelse, intervall längd-/area-/volymenhet, rotationskropp, polynomdivision, komplext tal, komplext talplan, real-/imaginärdel, polär/rektangulär form, absolutbelopp, argument, konjugat, reell/komplex rot
Hänvisningar	t.ex. till figur, trigonometriska formler, de Moivres formel, deriveringsregler, kedjeregeln, faktorsatsen, enhetscirkeln
Övrigt	t.ex. figurer (med införda beteckningar), definierade variabler, tabeller, angivna enheter

Förmågan att kommunicera skriftligt kommer inte att särskilt bedömas på E-nivå för enskilda uppgifter. Elever som uppfyller kraven för betyget E för de övriga förmågorna anses kunna redovisa och kommunicera på ett sådant sätt att kunskapskraven för skriftlig kommunikation på E-nivå automatiskt är uppfyllda.

## Digitala prov ska avidentifieras

De prov som eleverna har genomfört digitalt ska *avidentifieras* före bedömningen. Läraren som bedömer ska alltså inte veta vems prov hon eller han bedömer. Mer information om detta finns på Skolverkets webbsida [www.skolverket.se/genomfora-np-gymnasieskolan](http://www.skolverket.se/genomfora-np-gymnasieskolan).

## Sammanställning av elevresultat

När eleven har genomfört de olika delproven kan resultaten noteras i ”Formulär för sammanställning av elevresultat” som finns i kapitel 6. Syftet med formuläret är att underlätta för läraren att sammanställa och rapportera in elevens resultat. Det kan också användas vid samtal med eleven om provresultatet.

## Sammanställning till ett provbetyg

När samtliga delprov är genomförda ska resultaten summeras till ett provbetyg. Information om hur summeringen går till finns i kapitel 4.




## 2. Bedömningsanvisningar

I det här kapitlet finns anvisningar för hur provet ska bedömas.

### Läsanvisning

Exempel på ett godtagbart svar anges inom parentes. Till en del uppgifter är bedömda elevlösningar bifogade för att ange nivån på bedömningen. Om exempel på bedömda elevlösningar finns i materialet markeras detta med en hänvisning.

### Instruktioner för bedömning av delprov B

- |           |   |   |
|-----------|---|---|
| <b>1.</b> |   | <b>Max 3/0/0</b>  |
| a)        | Korrekt svar ( $f'(x) = 5 \cos 5x$ )  | +1 E <sub>P</sub>   |
| b)        | Korrekt svar ( $g'(x) = 50(5x + 2)^9$ )<br><i>Kommentar:</i> Även svaret $g'(x) = 10(5x + 2)^9 \cdot 5$ godtas. | +1 E <sub>P</sub>   |
| c)        | Korrekt svar ( $h'(x) = 7x^6 \cdot e^x + x^7 \cdot e^x$ )   | +1 E <sub>P</sub>   |
| <b>2.</b> |   | <b>Max 2/0/0</b>  |
| a)        | Korrekt svar ( $90^\circ$ ; $\frac{\pi}{2}$ )   | +1 E <sub>B</sub>   |
| b)        | Korrekt svar ( $-3$ )   | +1 E <sub>B</sub>   |
| <b>3.</b> |   | <b>Max 2/0/0</b>  |
| a)        | Korrekt svar ( $6\pi$ )   | +1 E <sub>PL</sub>  |
| b)        | Godtagbar skiss av kurvan $y = \sin \frac{x}{2}$ där godtagbar amplitud och period framgår                      | +1 E <sub>B</sub>   |
|           | <i>Se kapitel 3 "Exempel på bedömda elevlösningar"</i>  |  |

4. **Max 1/1/0**
- Minst en av kurvans asymptoter godtagbart inritad +1 E<sub>B</sub>
- med båda kurvans asymptoter godtagbart inritade och inga felaktiga asymptoter inritade +1 C<sub>B</sub>
- Kommentar:* De två korrekta asymptoterna är  $y = x - 1$  och  $x = -2$

*Se kapitel 3 "Exempel på bedömda elevlösningar"*



5. **Max 0/1/0**
- Korrekt svar  $(1 + \frac{\pi}{2})$  +1 C<sub>P</sub>
6. **Max 0/1/0**
- Korrekt svar ( $e^2$ ) +1 C<sub>B</sub>
7. **Max 1/1/1**
- a) Korrekt svar  $(-4 - 3i)$  +1 E<sub>B</sub>
- b) Korrekt svar (t.ex.  $-\frac{\pi}{4}; -45^\circ$ ) +1 C<sub>B</sub>
- c) Godtagbar markering av linjen  $\text{Im } z = \text{Re } z + 2$  +1 A<sub>B</sub>



*Se kapitel 3 "Exempel på bedömda elevlösningar"*






8. **Max 0/0/1**
- Korrekt svar  $(-\pi^2)$  +1 A<sub>PL</sub>
9. **Max 0/0/1**
- Korrekt svar (t.ex.  $\cos 36^\circ + i \sin 36^\circ; \cos \frac{\pi}{5} + i \sin \frac{\pi}{5}$ ) +1 A<sub>B</sub>
- Kommentar:* Även svar med flera korrekta lösningar ges poäng, men svar av typen  $\cos n36^\circ + i \sin n36^\circ$  ges ej poäng eftersom svaret innehåller reella lösningar.



10. **Max 0/0/1**
- Korrekt svar ( $y^8$ ) +1 A<sub>B</sub>

## Instruktioner för bedömning av delprov C

- 11.** **Max 2/0/0**
- Godtagbar ansats, förlänger med nämnarens konjugat,  $\frac{(8+6i)(1-2i)}{(1+2i)(1-2i)}$  +1 E<sub>P</sub>
- med i övrigt godtagbar lösning med korrekt svar  $(4-2i)$  +1 E<sub>P</sub>
- 
- 12.** **Max 2/1/0**
- Godtagbar ansats, bestämmer minst en lösning till ekvationen korrekt +1 E<sub>P</sub>
- med godtagbar fortsättning, bestämmer minst två lösningar till ekvationen korrekt, t.ex.  $x = 15^\circ + n \cdot 90^\circ$  +1 E<sub>P</sub>
- med i övrigt godtagbar lösning med korrekt svar
- $(x = \frac{\pi}{12} + n \cdot \frac{\pi}{2}$  och  $x = \frac{\pi}{6} + n \cdot \frac{\pi}{2}; x = 15^\circ + n \cdot 90^\circ$  och  $x = 30^\circ + n \cdot 90^\circ)$  +1 C<sub>P</sub>
- 
- 13.** **Max 2/0/0**
- Godtagbar ansats, t.ex. skriver om VL till  $\frac{a+bi-(a-bi)}{2i}$  +1 E<sub>R</sub>
- med i övrigt godtagbart resonemang där likheten visas +1 E<sub>R</sub>
- Se kapitel 3 "Exempel på bedömda elevlösningar"* 
- 
- 14.** **Max 0/3/0**
- a) Visar att  $f(z)$  är delbart med  $g(z)$ , t.ex. med hjälp av polynomdivision +1 C<sub>R</sub>
- b) Godtagbar ansats, t.ex. ställer upp  $(z^2 + 2z + 10)(z^2 - 1) = 0$  och bestämmer minst två rötter till ekvationen +1 C<sub>P</sub>
- med i övrigt godtagbar lösning med korrekt svar  $(z = \pm 1$  och  $z = -1 \pm 3i)$  +1 C<sub>P</sub>
- Se kapitel 3 "Exempel på bedömda elevlösningar"* 
- 
- 15.** **Max 0/2/0**
- Godtagbar ansats, t.ex. gör liknämning och använder formeln för dubbla vinkeln i täljare eller nämnare i VL, t.ex.  $\frac{\sin 2x}{(\cos x - \sin x)(\cos x + \sin x)}$  +1 C<sub>R</sub>
- med i övrigt godtagbart bevis +1 C<sub>R</sub>

- 16.** **Max 0/3/0**
- Godtagbar ansats, t.ex. bestämmer  $\cos^2 v$  och tecknar  $\tan v = \frac{\sin v}{\cos v}$  +1 C<sub>PL</sub>
- med godtagbar fortsättning, kommer fram till ett värde på  $\tan v$  som uppfyller villkoret  $\sin^2 v = \frac{8}{9}$ , t.ex.  $\tan v = \sqrt{8}$  +1 C<sub>PL</sub>
- med i övrigt godtagbar lösning med korrekt svar ( $-\sqrt{8}$ ) +1 C<sub>R</sub>
- Se kapitel 3 "Exempel på bedömda elevlösningar"* 
- 17.** **Max 0/3/0**
- Godtagbar ansats, anger ett samband mellan  $a$  och  $b$  samt deriverar  $f$  korrekt +1 C<sub>PL</sub>
- med i övrigt godtagbar lösning med korrekt svar ( $a = 10$  och  $b = -2$ ) +1 C<sub>PL</sub>
- Lösningen kommuniceras på C-nivå, se kapitel 1 "Bedömning av skriftlig kommunikativ förmåga" +1 C<sub>K</sub>
- Se kapitel 3 "Exempel på bedömda elevlösningar"* 
- 18.** **Max 0/0/2**
- Godtagbar ansats, t.ex. skriver om ekvationen med subtraktionssatsen för sinus,  $\sin(v - 40^\circ) = \sin v$  +1 A<sub>R</sub>
- med i övrigt godtagbart bevis +1 A<sub>R</sub>
- Se kapitel 3 "Exempel på bedömda elevlösningar"* 
- 19.** **Max 0/0/2**
- Godtagbar ansats, bestämmer  $G'(x) = (\ln x)^2 + \frac{2x \ln x}{x} + 3$  +1 A<sub>P</sub>
- med i övrigt godtagbar lösning med korrekt svar ( $x_1 = 1$  och  $x_2 = e$ ) +1 A<sub>P</sub>

## Instruktioner för bedömning av delprov D

20. **Max 1/0/0**
- Godtagbart svar där det framgår att graferna ritas med olika vinkelmått +1 E<sub>B</sub>
- Se kapitel 3 "Exempel på bedömda elevlösningar"* 
21. **Max 2/0/0**
- Godtagbar ansats, t.ex. tecknar ekvationen  $\int_0^{1,9} (4x^3 + k - 3x^2) dx = 13$  +1 E<sub>PL</sub>
- med i övrigt godtagbar lösning med godtagbart svar (3,6) +1 E<sub>PL</sub>
- Se kapitel 3 "Exempel på bedömda elevlösningar"* 
22. **Max 3/0/0**
- a) Godtagbart svar (310 W) +1 E<sub>M</sub>
- b) Godtagbar ansats, visar insikt om att derivatan ska bestämmas +1 E<sub>M</sub>
- med i övrigt godtagbar lösning med godtagbart svar (-45 W/h) +1 E<sub>M</sub>
- Kommentar:* Även svaret -45 ges poäng.
23. **Max 0/2/0**
- Godtagbar ansats, tecknar en integral för volymen med godtagbara +1 C<sub>P</sub>
- integrationsgränser, t.ex.  $\pi \int_{0,8}^{1,7} (9x - x^4 - 7)^2 dx$  +1 C<sub>P</sub>
- med i övrigt godtagbar lösning med godtagbart svar (4,87 v.e.) +1 C<sub>P</sub>
- Kommentar:* Även svaret 4,87 ges poäng.
24. **Max 0/2/0**
- Godtagbar ansats, tecknar en relevant integral, t.ex.  $\int_0^5 0,02t \cdot e^{-0,01t^2} dt$  +1 C<sub>M</sub>
- med i övrigt godtagbar lösning med godtagbart svar (7) +1 C<sub>M</sub>

- 25.** **Max 1/1/3**
- a) Korrekt svar (39 km/h) +1 E<sub>M</sub>
- b) Godtagbar lösning med godtagbart svar (8,5 timmar) +1 C<sub>M</sub>
- c) Godtagbar ansats, visar insikt om att  $P(v) = 0,42 \cdot v^3$  ska integreras med avseende på  $x$  +1 A<sub>M</sub>  
 med i övrigt godtagbar lösning med godtagbart svar (320 000 MJ) +1 A<sub>M</sub>  
 Lösningen (deluppgift b och c) kommuniceras på A-nivå, se kapitel 1  
 ”Bedömning av skriftlig kommunikativ förmåga” +1 A<sub>K</sub>

*Se kapitel 3 ”Exempel på bedömda elevlösningar”*



- 26.** **Max 0/1/2**
- Anger godtagbara värden för minst två av konstanterna +1 C<sub>M</sub>  
 med godtagbart värde för ytterligare minst en konstant +1 A<sub>M</sub>  
 med godtagbart svar  
 (t.ex.  $A = 2,6$ ;  $B = 1,6$ ;  $C = -0,8$  och  $D = 3,9$  om radianer används;  
 $A = 2,6$ ;  $B = 90,0$ ;  $C = -45,0$  och  $D = 3,9$  om grader används) +1 A<sub>M</sub>

- 27.** **Max 0/0/3**
- a) Korrekt svar (3) +1 A<sub>PL</sub>
- b) Godtagbart ansats, t.ex. visar insikt i att integrationsgränserna ska väljas symmetriskt runt symmetrilinjen  $x = 3,5$  +1 A<sub>R</sub>  
 med i övrigt godtagbar lösning med godtagbart svar (5,2) +1 A<sub>PL</sub>

*Se kapitel 3 ”Exempel på bedömda elevlösningar”*

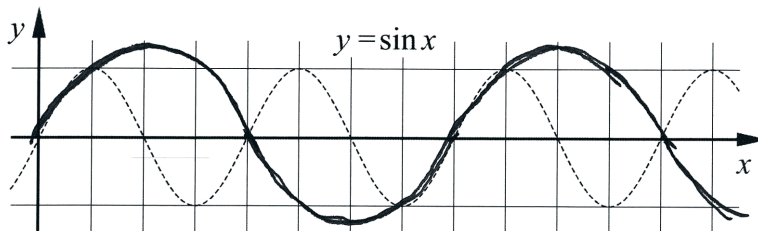


### 3. Exempel på bedömda elevlösningar

I det här kapitlet finns exempel på bedömda elevlösningar till vissa uppgifter i provet samt kommentarer till exemplen som stöd för bedömningen.

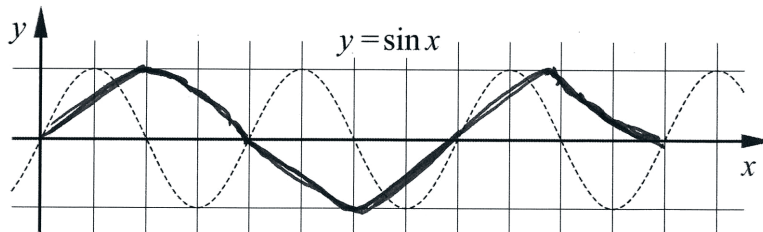
#### Uppgift 3

##### Elevlösningsexempel 3.1 (0 poäng)



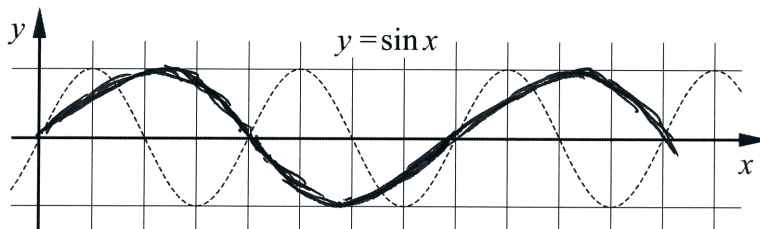
*Bedömningskommentar till exemplet:* I elevlösningen visas en kurva som inte har en godtagbar amplitud. Därmed anses inte kraven för begreppspoäng på E-nivå vara uppfyllda.

##### Elevlösningsexempel 3.2 (1 EB)

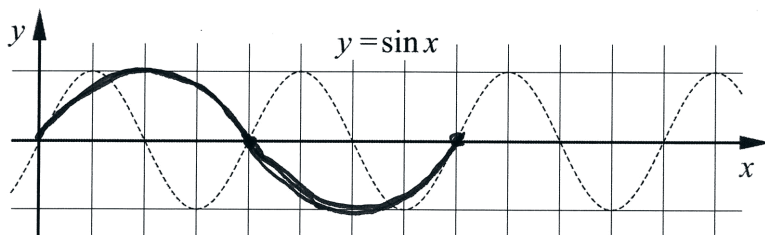


*Bedömningskommentar till exemplet:* I elevlösningen visas en godtagbar skiss där den korrekta amplituden och perioden framgår. Trots att kurvan har en något kantig form anses kraven för begreppspoäng på E-nivå nätt och jämnt vara uppfyllda.

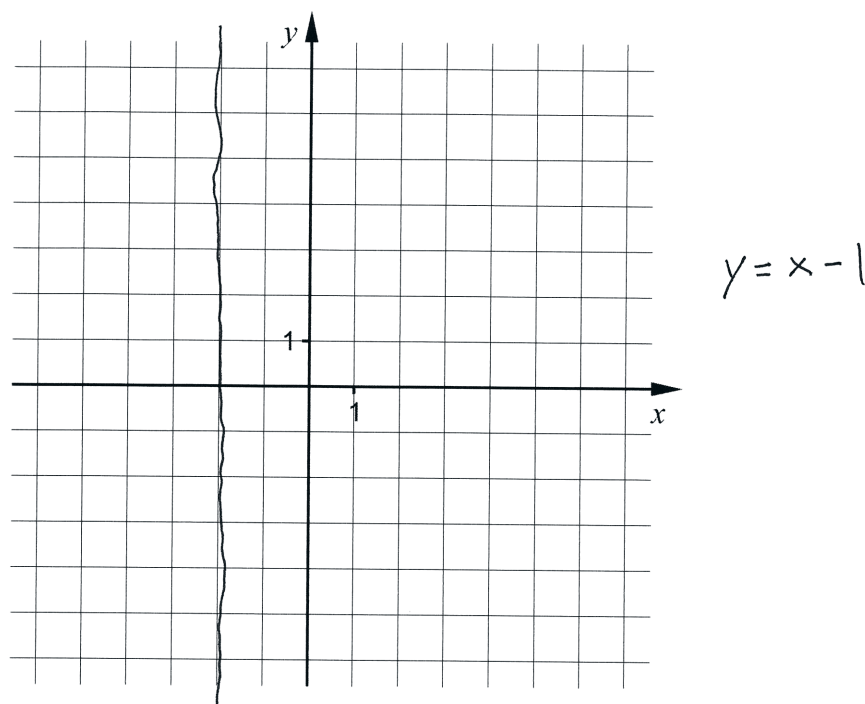
##### Elevlösningsexempel 3.3 (1 EB)



*Bedömningskommentar till exemplet:* I elevlösningen visas en godtagbar skiss där den korrekta amplituden och perioden framgår. Trots att kurvan är något skev och inte prickar extrempunkterna exakt anses kraven för begreppspoäng på E-nivå nätt och jämnt vara uppfyllda.

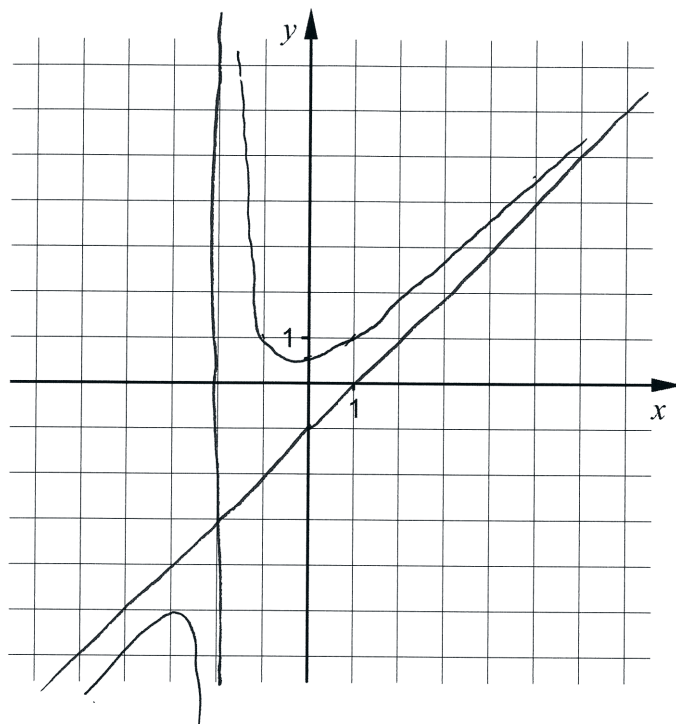
**Elevlösningsexempel 3.4 (1 EB)**

*Bedömningskommentar till exemplet:* I elevlösningen visas en godtagbar skiss där den korrekta amplituden och perioden framgår. Trots att endast en period av kurvan är ritad anses kraven för begreppsöäng på E-nivå nått och jämnt vara uppfyllda.

**Uppgift 4****Elevlösningsexempel 4.1 (1 EB)**

*Bedömningskommentar till exemplet:* I elevlösningen visas en godtagbart ritad lodrät asymptot. För den andra asymptoten har en korrekt ekvation angetts men utan skiss och lösningen uppfyller därmed inte kraven för begreppsöäng på C-nivå.

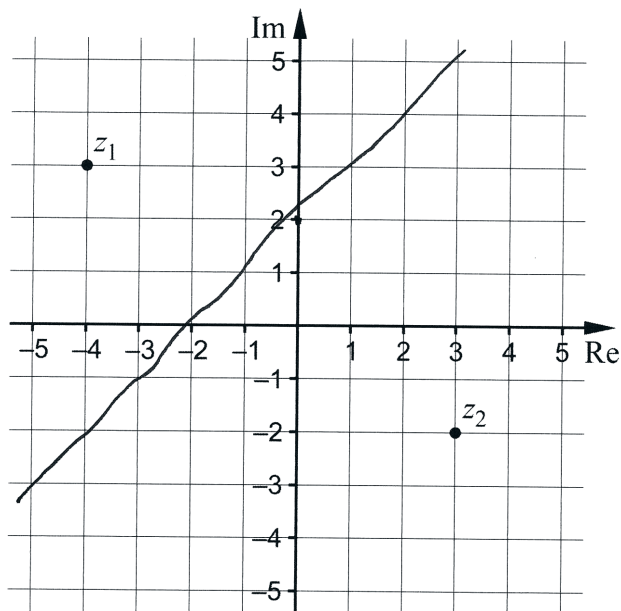


**Elevlösningsexempel 4.2 (1 E<sub>B</sub> och 1 C<sub>B</sub>)**

*Bedömningskommentar till exemplet:* I elevlösningen visas två godtagbart inritade asymptoter. Trots att lösningen även innehåller en skiss av kurvan ges lösningen samtliga möjliga poäng.

## Uppgift 7c

## Elevlösningsexempel 7c.1 (1 AB)



*Bedömningskommentar till exemplet:* I elevlösningen är linjen  $\text{Im } z = \text{Re } z + 2$  inritad. Trots att linjen är något oprecis inritad anses kraven för en begreppspoäng på A-nivå vara uppfyllda.

## Uppgift 13

## Elevlösningsexempel 13.1 (0 poäng)

$$\frac{z - \bar{z}}{2i} = \text{Im } z$$

$$\text{v.l.} = \frac{(2+2i) - (2-2i)}{2i} =$$

$$= \frac{2+2i - 2+2i}{2i} =$$

$$= \frac{4i}{2i} = 2 = \text{H.L.} \quad \text{V.S.V.}$$

*Bedömningskommentar till exemplet:* I elevlösningen visas att sambandet gäller för ett specifikt fall,  $z = 2 + 2i$ . Detta anses inte motsvara en godtagbar ansats.

**Elevlösningsexempel 13.2 (1 ER)**

$$z = a + bi \quad \bar{z} = a - bi$$

$$\frac{z - \bar{z}}{2i} = \frac{(a + bi) - (a - bi)}{2i} = \frac{2bi}{2i} = bi = \operatorname{Im} z$$

V.S.B.

*Bedömningskommentar till exemplet:* I elevlösningen påbörjas beviset korrekt vilket uppfyller kraven för ansatspoängen. I den fortsatta lösningen sätts sista kvoten lika med  $bi$  i stället för det korrekta  $b$ . Vidare anges felaktigt att  $bi = \operatorname{Im} z$ . Därmed anses likheten inte visad. Lösningen ges en resonemangspoäng på E-nivå.

**Elevlösningsexempel 13.3 (2 ER)**

$$z - \bar{z} = x + yi - (x - yi) = 2yi$$

$$\frac{z - \bar{z}}{2i} = \frac{2yi}{2i} = y \quad \text{V.S.B.}$$

*Bedömningskommentar till exemplet:* I elevlösningen visas att uttrycket är lika med  $y$  men utan kommentar om att  $y = \operatorname{Im} z$ . Trots denna brist anses kraven för den andra poängen nått och jämnt vara uppfyllt. Lösningen ges två resonemangspoäng på E-nivå.

**Elevlösningsexempel 13.4 (2 ER)**

Den reella delen av  $z$  tar ut varandra när de subtraheras eftersom den är samma på båda.

Och eftersom  $\bar{z}$  är tvärtom  $z$  på den imaginära delen så får man  $\operatorname{Im} z$  när man delar med  $2i$ ,

$$\text{t.ex.} \quad \frac{4i - (-4i)}{2i} = 4$$

Så om vi har  $z = 3 + 4i$  så blir det

$$\frac{3 + 4i - (3 - 4i)}{2i} = 4$$

och  $\operatorname{Im} z$  är då i detta fall 4.

*Bedömningskommentar till exemplet:* I elevlösningen genomförs ett något otydligt generellt resonemang med den något oprecisa formuleringen "eftersom  $\bar{z}$  är tvärtom  $z$  på den imaginära delen". Sedan följer två exempel för att förtydliga resonemanget. Sammantaget anses detta nått och jämnt uppfylla kraven för den andra resonemangspoängen. Lösningen ges två resonemangspoäng på E-nivå.

## Uppgift 14

## Elevlösningsexempel 14.1 (2 Cp)

$$\begin{aligned}
 \text{a)} \quad z^2 - 1 &= 0 & z &= 1 \\
 f(1) &= 1^4 + 2 \cdot 1^3 + 9 \cdot 1^2 - 2 \cdot 1 - 10 = \\
 &= 1 + 2 + 9 - 2 - 10 = 0
 \end{aligned}$$

$$\begin{array}{r}
 \text{b)} \quad z^2 + 2z + 10 \\
 \hline
 z^4 + 2z^3 + 9z^2 - 2z - 10 \quad | \quad z^2 - 1 \\
 -(z^4 - z^2) \\
 \hline
 2z^3 + 10z^2 - 2z - 10 \\
 -(2z^3 - 2z) \\
 \hline
 10z^2 - 10 \\
 -(10z^2 - 10) \\
 \hline
 0
 \end{array}$$

$$(z^2 + 2z + 10)(z^2 - 1) = 0$$

$$z = -1 \pm \sqrt{1-10}$$

$$z = -1 \pm 3i$$

$$\begin{array}{l}
 \text{Svar} \quad z_1 = -1 + 3i \\
 \quad \quad z_2 = -1 - 3i \\
 \quad \quad z_3 = 1 \\
 \quad \quad z_4 = -1
 \end{array}$$

*Bedömningskommentar till exemplet:* I elevlösningen till deluppgift a) visas endast att den positiva roten till  $z^2 - 1 = 0$  är ett nollställe till  $f$ . Det är inte tillräckligt för att visa att  $z^2 - 1$  är en faktor. I elevlösningen till deluppgift b) genomförs en polynomdivision som ger resten noll. Sedan bestäms samtliga rötter korrekt. Trots att polynomdivisionen i deluppgift b) implicit visar att  $f$  är delbar med  $z^2 - 1$  ges inte poäng för lösningen i a). Sammantaget ges lösningen två procedurpoäng på C-nivå.

## Elevlösningsexempel 14.2 (1 CR och 2 CP)

a)

$$\begin{array}{r}
 z^2 + 2z + 10 \\
 \hline
 z^4 + 2z^3 + 9z^2 - 2z - 10 \quad \boxed{z^2 - 1} \\
 - (z^4 \quad \quad - z^2) \\
 \hline
 2z^3 + 10z^2 - 2z - 10 \\
 - (2z^3 \quad \quad - 2z) \\
 \hline
 10z^2 \quad - 10 \\
 - (10z^2 \quad - 10) \\
 \hline
 0
 \end{array}$$

b)

$$(z^2 - 1)(z^2 + 2z + 10) = 0$$

$$z^2 - 1 = 0 \rightarrow z = \pm 1$$

$$z^2 + 2z + 10 = 0 \rightarrow z = -1 \pm \sqrt{1 - 10} = -1 \pm 3i$$

Svar

$$\begin{aligned}
 z_1 &= -1 + 3i \\
 z_2 &= -1 - 3i \\
 z_3 &= 1 \\
 z_4 &= -1
 \end{aligned}$$

*Bedömningskommentar till exemplet:* I elevlösningen till deluppgift a) genomförs en korrekt polynomdivision som ger resten noll. Trots avsaknad av kommentar om delbarheten anses kraven för resonemangspoängen vara uppfyllda. I elevlösningen till deluppgift b) används resultatet i deluppgift a) och en godtagbar bestämning av samtliga rötter görs. Sammantaget ges lösningen samtliga möjliga poäng på uppgiften.

## Uppgift 16

## Elevlösningsexempel 16.1 (2 CPL)

$$\tan v = ?$$

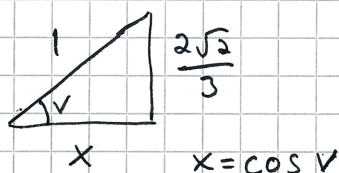
$$90^\circ < v < 180^\circ$$

$$\sin^2 v = \frac{8}{9}$$

$$\sin v = \frac{2\sqrt{2}}{3}$$

$$\tan v = \frac{\sin v}{\cos v}$$

$$\tan v = \frac{\frac{2\sqrt{2}}{3}}{\frac{1}{3}} = \frac{2\sqrt{2}}{3} \cdot \frac{3}{1} = 2\sqrt{2}$$



$$\underline{\underline{\text{Svar } \tan v = -2\sqrt{2}}}$$

$$1^2 = \left(\frac{2\sqrt{2}}{3}\right)^2 + x^2$$

$$1 = \frac{8}{9} + \cos^2 v$$

$$\frac{1}{9} = \cos^2 v \Rightarrow \cos v = \frac{1}{3}$$

*Bedömningskommentar till exemplet:* I elevlösningen bestäms med hjälp av en rätvinklig triangel att  $\tan v = 2\sqrt{2}$ , vilket uppfyller villkoret  $\sin^2 v = \frac{8}{9}$  men inte intervallvillkoret.

I svaret görs sedan ett teckenbyte på  $\tan v$  utan motivering. Därmed anses inte kraven för resonemangspoäng på C-nivå vara uppfyllda. Sammantaget ges lösningen två problemlösningspoäng på C-nivå.

## Elevlösningsexempel 16.2 (2 CPL och 1 CR)

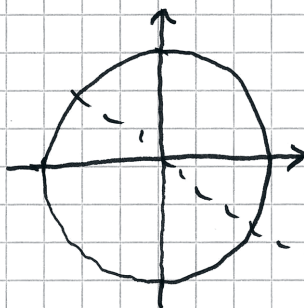
$$\begin{cases} \sin^2 v = \frac{8}{9} \\ \cos^2 v + \sin^2 v = 1 \end{cases}$$

$$\cos^2 v = 1 - \sin^2 v = 1 - \frac{8}{9} = \frac{1}{9}$$

$$\tan^2 v = \frac{\sin^2 v}{\cos^2 v} = \frac{\frac{8}{9}}{\frac{1}{9}} = \frac{8}{9} \cdot \frac{9}{1} = 8$$

$$\tan v = \sqrt{\tan^2 v} = \sqrt{8} = 2\sqrt{2}$$

För  $90^\circ < v < 180^\circ$



För en vinkel i andra kvadranten behöver talet vara negativt dvs:

$$\therefore \tan v = -2\sqrt{2}$$

*Bedömningskommentar till exemplet:* I elevlösningen bestäms ett korrekt värde på  $\tan v$  som uppfyller båda villkoren. När  $\tan v$  bestäms ur  $\tan^2 v$  bortses från det negativa värdet. I och med den efterföljande kommentaren om att  $\tan v$  är negativt i andra kvadranten anses ändå kraven för resonemangspoängen nått och jämnt vara uppfyllda. Sammantaget ges samtliga möjliga poäng.

## Uppgift 17

## Elevlösningsexempel 17.1 (2 CPL och 1 CK)

$$f(x) = \frac{ax+b}{x+1} \quad f(1) = \frac{a+b}{2}$$

$$f'(x) = \frac{a(x+1) - 1(ax+b)}{(x+1)^2}$$

$$f'(1) = \frac{a \cdot 2 - (a+b)}{2^2} = \frac{2a-a-b}{4} = \frac{a-b}{4}$$

$$\frac{a+b}{2} = 4 \rightarrow a+b=8 \rightarrow a=8-b$$

$$\frac{a-b}{4} = 3 \rightarrow a-b=12 \rightarrow a=12+b$$

$$8-b=12+b$$

$$-4=2b$$

$$b=-2$$

$$a=8-(-2)=8+2=10$$

$$\underline{\text{Svar}} \begin{cases} a=10 \\ b=-2 \end{cases}$$

*Bedömningskommentar:* I elevlösningen bestäms korrekta värden på  $a$  och  $b$ . När det gäller kommunikation är den matematiska symbolhanteringen korrekt men villkoren i uppgiften används på rad 4 och 5 utan hänvisning till framtagna uttryck för  $f(1)$  och  $f'(1)$ . Likaså sätts en ekvation upp för bestämning av  $b$  på rad 6 utan hänvisning till sambanden på rad 4 och 5. Trots dessa brister anses kraven för kommunikationspoäng på C-nivå nått och jämnt vara uppfyllda.



## Uppgift 18

## Elevlösningsexempel 18.1 (1 AR)

$$\sin v \cos 40^\circ = \sin v + \cos v \sin 40^\circ$$

$$\underbrace{\sin v \cos 40^\circ - \cos v \sin 40^\circ}_{\sin(v-40^\circ)} = \sin v$$

$$\sin(v-40^\circ) = \sin v$$

Eftersom att  $\sin v$  har sitt högsta värde

då  $v = 90^\circ$  då  $v \geq 90^\circ$  speglar där  $v \leq 90^\circ$ .

Med tanke på detta skulle det krävas att

vi hade ett  $v$ -värde på  $110^\circ$  för att påståendet

ska stämma och eftersom  $0^\circ \leq v \leq 90^\circ$  så saknar

ekvationen lösning inom intervallet  $0^\circ \leq v \leq 90^\circ$ .

V, S, V.

*Bedömningskommentar till exemplet:* I elevlösningen hänvisas till att  $\sin v$  har största värdet då  $v = 90^\circ$  och en något otydlig beskrivning av symmetrin: ”då  $v \geq 90^\circ$  speglar där  $v \leq 90^\circ$ ”. Sedan påstås utan motivering att det krävs att  $v = 110^\circ$  för att påståendet ska stämma, vilket inte visar att lösningar saknas i intervallet. Därmed anses inte kraven för den andra resonemangspoängen på A-nivå vara uppfyllda.

## Elevlösningsexempel 18.2 (2 AR)

$$\sin v \cos 40^\circ = \sin v + \cos v \sin 40^\circ$$

$$\sin v \cos 40^\circ - \cos v \sin 40^\circ = \sin v$$

$$\sin v \cos 40^\circ - \cos v \sin 40^\circ = \sin(v - 40^\circ)$$

$$\sin(180^\circ - \theta) = \sin(\theta)$$

$\Rightarrow$  sin har två lika värden

ett i första och ett i andra kvadranten.

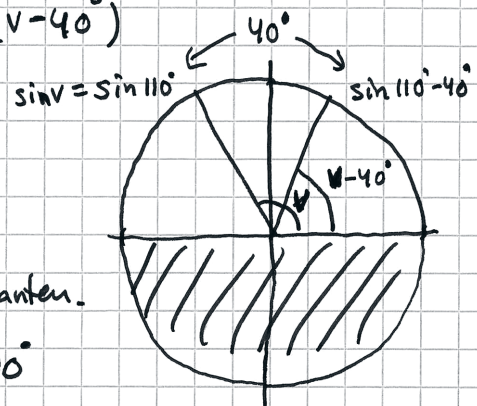
$\Rightarrow \sin v = \sin(v - 40^\circ)$  om  $0^\circ \leq v < 90^\circ$

eftersom det krävs  $v \geq 110^\circ$  för att

$$\sin v = \sin(v - 40^\circ)$$

$$\sin 110^\circ = \sin(110^\circ - 40^\circ)$$

Q.E.D.



$$\frac{40^\circ}{2} = 20^\circ$$

20° åt vardera håll

från 90° ger samma

sin.

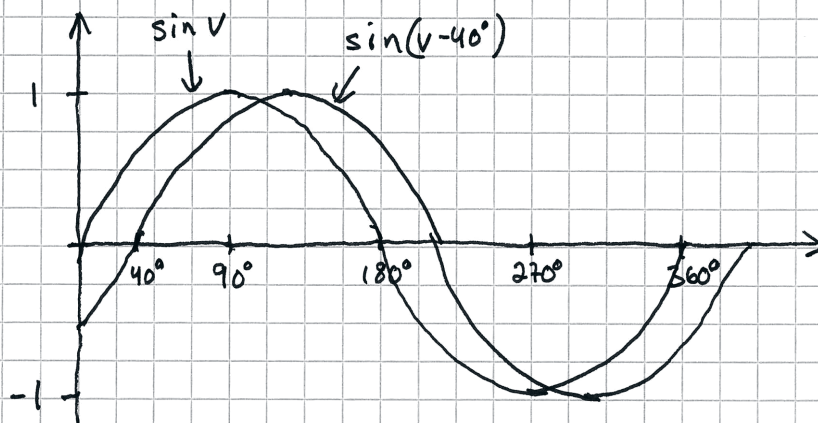
*Bedömningskommentar till exemplet:* I elevlösningen hänvisas till formeln  $\sin(180^\circ - \theta) = \sin(\theta)$  och tolkningen att "sin har två lika värden, ett i första och ett i andra kvadranten". Med hjälp av enhetscirkeln markeras vinklarna  $v$  och  $v - 40^\circ$  i varsin kvadrant och en beräkning görs att  $v = 110^\circ$ . Resonemanget som helhet anses utesluta lösningar till ekvationen i intervallet. Sammantaget ges lösningen samtliga möjliga poäng.

## Elevlösningsexempel 18.3 (2 AR)

$$\sin v \cos 40^\circ = \sin v + \cos v \sin 40^\circ \quad \text{saknar lösning i} \\ 0 \leq v \leq 90^\circ$$

$$\sin v \cos 40^\circ - \cos v \sin 40^\circ = \sin v$$

$$\sin(v - 40^\circ) = \sin v$$



Linjerna stöter inte på varandra föräns efter  $90^\circ$

*Bedömningskommentar till exemplet:* I elevlösningen skissas graferna till  $y = \sin v$  och  $y = \sin(v - 40^\circ)$ . Därefter konstateras att "Linjerna stöter inte på varandra föräns efter  $90^\circ$ ". Detta anses tillräckligt för att visa att lösningar till ekvationen saknas i intervallet. Sammantaget ges lösningen samtliga möjliga poäng.

## Elevlösningsexempel 18.4 (2 AR)

$$\sin v \cos 40^\circ = \sin v + \cos v \sin 40^\circ$$

$$\sin v \cos 40^\circ - \cos v \sin 40^\circ = \sin v$$

( $\sin(u+v)$ )

$$\sin(v-40^\circ) = \sin v$$

( $\arcsin$ )

$$v-40^\circ = v + n \cdot 360^\circ$$

$$v-40^\circ = 180^\circ - v + n \cdot 360^\circ$$

$$2v = 220^\circ + n \cdot 360^\circ$$

$$v = 110^\circ + n \cdot 180^\circ$$

$v$  får då aldrig värdet  $0^\circ \leq v \leq 90^\circ$  v.s.B.

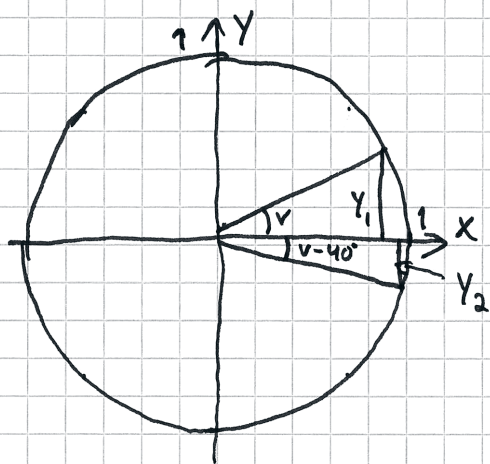
*Bedömningskommentar till exemplet:* I elevlösningen genomförs en förenkling med subtraktionssatsen för sinus följt av en algebraisk lösning av ekvationen. Där lämnas ekvationen  $v - 40^\circ = v + n \cdot 360^\circ$  utan kommentar om att den saknar lösning. Trots detta anses lösningen nätt och jämnt uppfylla kraven för den andra resonemangspoängen på A-nivå.

## Elevlösningsexempel 18.5 (2 AR)

$$\sin v \cos 40^\circ = \sin v + \cos v \sin 40^\circ$$

$$\sin v \cos 40^\circ - \cos v \sin 40^\circ = \sin v$$

$$\sin(v - 40^\circ) = \sin v$$



$$y_1 = \sin v \quad y_2 = \sin(v - 40^\circ)$$

$$0^\circ \leq v \leq 90^\circ$$

Vad än  $v$  är i intervallet  
så blir alltid  $y_1 > y_2$  då

$y_2$  även kan vara negativt.

samt att det är  $40^\circ$  mindre

*Bedömningskommentar till exemplet:* I elevlösningen visas enhetscirkeln med vinklarna  $v$  och  $v - 40^\circ$  inritade, där  $v$  är vald så att  $0^\circ \leq v \leq 90^\circ$ . Sedan namnges  $y$ -koordinaterna på enhetscirkeln:  $y_1 = \sin v$  och  $y_2 = \sin(v - 40^\circ)$ . Slutligen resoneras utifrån figuren att  $y_1 > y_2$  oavsett vilket värde  $v$  har i intervallet. Detta anses visa att  $\sin v = \sin(v - 40^\circ)$  saknar lösning för  $v$  i intervallet  $0^\circ \leq v \leq 90^\circ$ . Lösningen anses uppfylla kraven för båda resonemangs-poängen på A-nivå.

## Uppgift 20

## Elevlösningsexempel 20.1 (0 poäng)

Zaras kurva har kortare period än Yosefs.

*Bedömningskommentar till exemplet:* I elevlösningen beskrivs skillnaden mellan kurvorna. Det saknas dock en förklaring till varför Yosefs och Zaras kurvor ser olika ut för samma inmatade funktion.

## Elevlösningsexempel 20.2 (0 poäng)

De har råkat använda olika inställningar.

*Bedömningskommentar till exemplet:* I elevlösningen framgår inte vilken typ av inställningar det gäller.

**Elevlösningsexempel 20.3 (1 EB)**

En har ställt räknaren på radianer.

*Bedömningskommentar till exemplet:* Även om det inte uttrycks vem som ritat kurvan i radianer framgår det att graferna ritats med olika vinkelmått.

**Elevlösningsexempel 20.4 (1 EB)**

De har haft olika vinkelinställningar

*Bedömningskommentar till exemplet:* Även om det inte nämns något om grader och radianer framgår det att graferna ritats med olika vinkelmått.

**Uppgift 21****Elevlösningsexempel 21.1 (2 EPL)**

$$x = 1,9 \quad y = 3x^2 \quad y = 4x^3 + k \quad 13 \text{ a.e.}$$

↑  
under
↑  
över

$$\int_0^{1,9} 4x^3 + k - 3x^2$$

- ① Skrev in alla tre funktionerna i geogebra
- ② Skrev in integral mellan  $4x^3 + k$  och  $3x^2$   
och sedan provade jag med glidare och fick 13 a.e. när  $k = 3,6$ .

Svar:  $k = 3,6$

*Bedömningskommentar till exemplet:* I elevlösningen anges en integral för beräkning av arean även om  $dx$  saknas. Sedan genomförs en provning i GeoGebra där ett godtagbart värde på  $k$  bestäms. Sammantaget ges lösningen två problemlösningspoäng på E-nivå.

## Elevlösningsexempel 21.2 (2 EPL)

$$\int_0^{1,9} (4x^3 + k - 3x^2) dx = 13$$

Löser med CAS

$$k = 3,6$$

*Bedömningskommentar till exemplet:* I elevlösningen anges en ekvation för lösning av problemet. Ekvationen löses med CAS och ett godtagbart värde på  $k$  erhålls. Trots att ingen beskrivning görs om hur CAS använts anses lösningen uppfylla kraven för två problemlösningspoäng på E-nivå.

## Uppgift 25

## Elevlösningsexempel 25.1 (0 poäng på deluppgift c)

$$\int_0^{15,492} 0,42 v^3 dt = 6051,2 \text{ MJ}$$

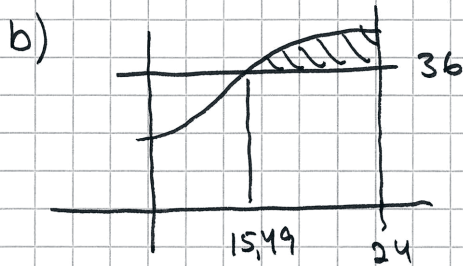
$$\text{Maxeffekt } 0,42 \cdot 36^2 = 19595,52$$

$$\begin{aligned} \text{Totalt} &= 6051,2 + 19595,52 \cdot (24 - 15,492) = \\ &= 172769,88 \text{ MJ} \end{aligned}$$

*Bedömningskommentar till exemplet:* I elevlösningen av deluppgift c) delas produktionen av elenergi upp i två beräkningar, en integralberäkning och en areaberäkning vid maximaleffekt. Båda dessa beräkningar utgår från  $0,42v^3$  utan att ersätta  $v$  med uttrycket för sinusfunktionen. Detta gör att kraven för ansatspoängen i deluppgift c) inte anses uppfyllda.

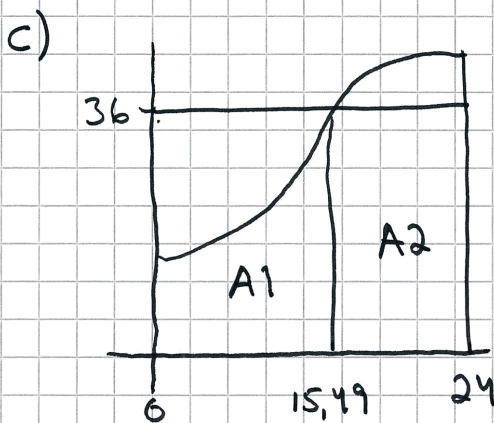
## Elevlösningsexempel 25.2 (1 EM, 1 CM och 2 AM)

a) 39 km/h



b) behöver veta när  $f(x) = 36$   
resten av dygnet så är  
vindhastigheten över.

i  $24 - 15,49$  timmar alltså 8,5 timmar.



$$A_2 = 0,42 \cdot 36^3 \cdot 8,5 =$$

$$= 167 \cdot 10^3 \text{ MJ}$$

$$A_1 = 150,9 \cdot 10^3 \text{ MJ}$$

bytade ut  $v$  i  $P(v)$

till  $v(x)$

$$P(v) = 0,42 \cdot (f(x))^3$$

integralen för denna funktion

mellan  $x=0$  och  $x=15,49$

gav mig  $A_1$

$$\text{Svar} = A_1 + A_2 =$$

$$150,9 \cdot 10^3 + 167 \cdot 10^3 =$$

$$318 \cdot 10^3 \text{ MJ}$$

*Bedömningskommentar till exemplet:* I elevlösningen behandlas uppgiften i sin helhet med korrekt svar. När det gäller kommunikation saknas i deluppgift b) och c) gradering och namngivning av axlarna och dessutom används beteckningen  $f(x)$  i stället för  $v(x)$ . I deluppgift c) är  $y$ -värdet 36 felaktigt i figuren då  $y$ -axeln här torde representera effekten och inte vindhastigheten. Dessa brister gör att kraven på tydlighet och korrekthet i användandet av matematiska symboler för kommunikationspoäng på A-nivå inte anses uppfyllda.



## Elevlösningsexempel 25.3 (1 EM, 1 CM, 2 AM och 1 AK)

$$a) \quad 39 \text{ km/h}$$

$$b) \quad v=36 \Rightarrow x=15,494$$

$v > 36$  fortsätter natten ut

$$t = t_{\text{slut}} - t_{\text{start}} = 24 - 15,494 = 8,506$$

Svar: Under 8,5 timmar

$$c) \quad P(v) = 0,42 v^3$$

$$v(x) = 11 \sin(0,11x - 0,89) + 28$$

$$\text{Tot energi} = \int_0^{24} \left( \begin{cases} P(v); & x < 15,494 \\ P(36); & x > 15,494 \end{cases} \right) dx =$$

$$= \int_0^{15,494} P(v) dx + \int_{15,494}^{24} P(36) dx \approx 317640 \text{ MJ}$$

↑  
avläses i geogebra

Svar: Vindkraftverken producerar  
totalt 318 GJ.

*Bedömningskommentar till exemplet:* I elevlösningen behandlas uppgiften i sin helhet med korrekt svar. När det gäller kommunikation saknas i deluppgift b) information om hur  $x = 15,494$  bestäms. Trots detta anses kraven för kommunikationspoäng på A-nivå vara uppfyllda.

## Uppgift 27b

## Elevlösningsexempel 27b.1 (1 AR)

$$a < b$$

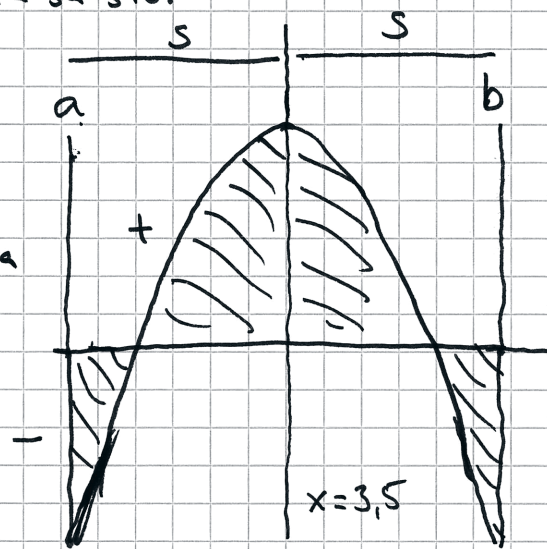
$$C = 0 = \int_a^b (7x - x^2 - 10) dx$$

$a$  ska vara så litet som möjligt och  $b$  ska vara så stort som möjligt.

$b-a$  Skillnaden ska vara så stor som möjligt.

Symmetrilinjen är i  $x=3,5$   
given av derivering i geogebra  
För att få största skillnaden  
ska  $a$  och  $b$  vara lika nära  
 $x=3,5$ .

$$3,5 - a$$



$$a.e. = 0$$

*Bedömningskommentar till exemplet:* I elevlösningen påpekas att  $a$  ska vara så litet som möjligt och att  $b$  ska vara så stort som möjligt och att de ska vara lika nära symmetrilinjens  $x$ -koordinat. Tillsammans med en illustrativ figur anses detta resonemang om hur intervallet ska väljas tillräckligt för att uppfylla kraven för resonemangspoängen på A-nivå.

## Elevlösningsexempel 27b.2 (1 AR och 1 APL)

$$\int_2^5 (7x - x^2 - 10) dx = 4,5 \quad \frac{4,5}{2} = 2,25$$

Löser  $\int_x^2 (7x - x^2 - 10) dx = -2,25$  med CAS

$$\Rightarrow x = 0,9 \quad 2 - 0,9 = 1,1$$

och två lösningar  
som inte passar

$$5 + 1,1 = 6,1$$

$$\int_{0,9}^{6,1} (7x - x^2 - 10) dx = 0 \quad b - a = 6,1 - 0,9 = \underline{\underline{5,2}}$$

*Bedömningskommentar till exemplet:* I elevlösningen bestäms först integralens värde med nollställena som integrationsgränser. Därefter bestäms den undre integrationsgränsen, det vill säga värdet på konstanten  $a$ , med hjälp av CAS men utan att samtliga lösningar till ekvationen redovisas ( $x = 3,5$  och  $x = 6,09\dots$ ). Trots detta anses ekvationslösningen vara godtagbar i och med kommentaren ”och två lösningar som inte passar”. Vidare bestäms det största värdet för  $(b - a)$  genom att först bestämma den andra integrationsgränsen. Även om det i elevlösningen inte motiveras varför detta är det största värdet anses lösningen i det här fallet nätt och jämnt uppfylla kraven för en resonemangspoäng på A-nivå och en problemlösningspoäng på A-nivå.

## Elevlösningsexempel 27b.3 (1 AR och 1 APL)

Integral( $7x - x^2 - 10, a, b$ ) i CAS ger

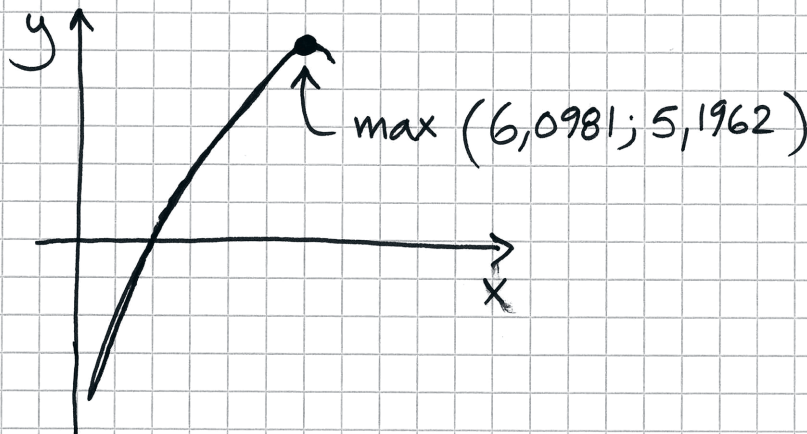
$$\frac{2a^3 - 21a^2 - 60a - 2b^3 + 21b^2 - 60b}{6}$$

Lös( $\quad = 0$ ) i CAS ger

$$a = b$$

$$a = \frac{-2b \pm \sqrt{-4b^2 + 28b - 13} \cdot \sqrt{3} + 21}{4}$$

Ersätter  $b$  med  $x$  och ritar  $y = b - a$   
för att hitta max



Med det andra  $a$ :et fick jag ett min  
(0,9019; -5,1962)

Svar: Det största värdet på  $(b-a)$   
är 5,1962.

Bedömningskommentar till exemplet: I elevlösningen används CAS för att först bestämma

ett uttryck för  $\int_a^b (7x - x^2 - 10) dx$  som används för att lösa ekvationen

$\int_a^b (7x - x^2 - 10) dx = 0$ . Lösningen till ekvationen ger tre möjliga samband mellan

konstanterna  $a$  och  $b$  som används för att grafiskt bestämma det maximala värdet för  $(b-a)$ . Sammantaget ges lösningen samtliga möjliga poäng.